

GENEL YETENEK - GENEL KÜLTÜR

2011 - KPSS / GYGK - TG2

1. Aşağıdaki cümlelerin hangisinde "yalnız" sözcüğü diğerlerinden farklı bir anlamda kullanılmıştır?

- A) Yalnız, seni görmek ve seninle konuşmak için buradayım.
- B) O zor zamanlarımda bana yalnız Ali Murat yardım etmişti.
- C) Yalnız taş duvar olmaz, diye boşuna dememişler.
- D) Bu apartmanda eşleri ölmüş, yalnız insanlar komşuluk ediyor bana.
- E) Ben bunları sana sordum yalnız sen gidip başkalarına sorma sakın.

2. Zamansız yaşadığın günler sona erdi; artık bir işin var.

Bu cümledeki "zamansız yaşamak" sözüyle anlatılmak istenen aşağıdakilerden hangisidir?

- A) Zamanını değerli işler yaparak geçirmek
- B) Dakikalarını dolu dolu yaşamak
- C) Vakti kullanırken özgür davranmak
- D) Normal yaşamın dışında hareket etmek
- E) Eğlenceli zaman geçirmek

3. Güzellik duygusu her medeniyet ve kültürde farklıdır. Öz, içerik, şekil, genel yöneliş ve tavır, yaklaşım tarzı, diğerlerinden yararlanma fakat ilhamını kendinden alma, kendine özgü algılama ve aktarma bakımlarından her medeniyet farklı bir güzellik ideası ortaya koyar.

Yukarıdaki parçada altı çizili söz grubuyla anlatılmak istenen aşağıdakilerden hangisidir?

- A) Anlatılanları duru bir şekilde ifade etme
- B) Açık, anlaşılır bir dille ifade etme
- C) Özgür bir biçimde yazma
- D) İçeriği ilginç yazılar yazma
- E) Özgün bir biçimde yazma

4. Yedi tepeli şehre ne şiirler yazmış şairler.

Yukarıdaki cümlede bulunan anlam olayı aşağıdakilerden hangisinde vardır?

- A) Rahmetli, mirasını dört çocuğu arasında paylaştırmış.
- B) Uzun bir yolculuğun ardından Trabzon'daki köyümüze varmıştık.
- C) Avuçlarımın arasından kayıp giden okul hayatıma üzmekten başka bir şey gelmiyor elimden.
- D) Derya kuzuları ağlara takılarak balıkçıların yüzünü güldürdü.
- E) Evimizin yüz metre ilerisindeki apartmana taşındı.

5. I. Eve öyle asık bir suratla girdi ki neredeyse patlayacaktı.
 II. Sağlam diye aldığı araba bir müddet sonra elinde patladı.
 III. Gül tomurcukları patladı; sonunda bahar geldi.
 IV. Yaptığı alışverişler bana pahalıya patladı.
 V. Öfkemden patlayabilirim; kimse bir şey demesin bana.

Yukarıdaki numaralı cümlelerden hangi ikisinde "patlamak" sözcüğü aynı anlamda kullanılmıştır?

- A) I ve III B) I ve V C) II ve III
 D) II ve IV E) IV ve V

6. "Sanat, ekme peşinde koşarsa alçalır." cümlesini söyleyen bir kişinin aşağıdakilerden hangisini söylemesi beklenir?

- A) Sanat eserleri maddi kazanç elde etmek için üretilmemelidir.
 B) Sanatı toplumu aydınlatmak adına kullanmak doğru değildir.
 C) Sanat, belli bir ideolojiyi temsil etmemelidir.
 D) Sanatçıların iyi para kazanması için eserlerinin kaliteli olması gerekir.
 E) Sanatçının sanatı geliştikçe maddi gücü de artar.

7. Aşağıdaki cümlelerden hangisinde dolaylı anlatım söz konusudur?

- A) Ağlasam sesimi duyar mısınız mısralarımda?
 B) Kendi yaşamını anlatan yazarların eserlerinde yaratıcılık bulunmaz.
 C) Çocuklarla iletişim kurmanın zor bir iş olduğunu belirtti.
 D) Tiyatro eleştirisi yazmak için oyunu birkaç kez izlemek gerekir, dedi.
 E) Sıkıntılarını bana anlatıp içini dökebilirsiniz.

8. Aşağıdaki cümlelerden hangisinde eylemin şu anda yapıldığı bildirilmemektedir?

- A) Yarın akşam gideceğim yemekli davette giymek üzere bir şeyler alıyorum.
 B) Kardeşimle, ailemizin içinde bulunduğu sancılı süreci tartışıyoruz.
 C) Kitap seçiminde okurların daha dikkatli olması gerekiyor.
 D) Günün yorgunluğunu üzerimizden atmak için bir fincan kahve içiyoruz.
 E) Aralarındaki problemin ne olduğunu öğrenmeye çalışıyorum Murat'tan.

9. Aşağıdaki cümlelerin hangisinde yoruma yer verilmemiştir?

- A) Yeni bir yazar olmasına karşın kalemi özgün kullanmayı iyi biliyor.
 B) Bu sergideki eserler modern bir çizgi ile fırlamış ressamın fırçasından.
 C) Yazarın son eserinde her zamanki akıcılığı hissedemedim.
 D) Yaşamı boyunca Rus yazarlardan otuza yakın eser çevirmiş.
 E) Sözcük seçimine büyük özen gösteren şair bu sefer de çok okunacağına benziyor.

10. Aşağıdaki cümlelerin hangisinde bir yazım yanlışı yoktur?

- A) Dedemlerin bahçesinde bulunan ağaçlar da meyve kalmamıştı.
 B) Kuşların toplu ölümü tüm dünyayı şaşırtmıştı.
 C) Biz yirmisekiz yaşında Bursa'da evlenmiştik.
 D) Parti için 3'er kişilik masalar hazırlanmıştı.
 E) Yanlızlığını benimle paylaşmak istediğini belirtti.

11. Aşağıdaki cümlelerden hangisinde bir yazım yanlışı vardır?

- A) Karate kursları ülkemizde yaygınlaşmaya başlamıştı.
- B) Uzun yol otobüs şoförleri belli bir hızı geçememektedir.
- C) Vejeteryan olduğundan yemekhanede yapılan birçok yemeği yiyemiyorum.
- D) Unvan sıfatları cümle içinde her zaman büyük harfle başlar.
- E) Sen ya da o hiç fark etmez; biriniz gelin yanıma.

12. Acı tatlı bir sürü anımız var seninle () ağlaşmalar () gülüşmeler () tartışmalar () Yokluğunda her şeyi çok arıyorum ()

Yukarıda parantezle belirtilen yerlere aşağıdakilerden hangisi getirilmelidir?

- A) (:)(,)(,)(...)(.)
- B) (.) (;)(;)(.)(.)
- C) (...)(,)(,)(...)(.)
- D) (:)(;)(;)(.)(...)
- E) (.) (,)(,)(.)(...)

13. Günümüzde çoğu insan değerli işler yapmadan popüler olabilmeyin peşinde. Böylelikle saygınlık kazanmak istiyorlar. Aslında bu tarz insanlara cesareti bizler veriyoruz. Örneğin; sözlerinde hiçbir anlam bulunmayan bir şarkıyı sırf hareketli diye birçok yerde işitebiliyoruz veya hiçbir edebi değeri bulunmayan bir eseri sadece konusu dikkat çektiğinden okuyabiliyoruz. Biz toplum olarak böyle durumlarda kalite aramalıyız ve bu insanlara önemli olanın anlık başarılar olmadığını, bu başarıların daimi ve kalıcı olması gerektiğini göstermeliyiz.

Bu paragrafta aşağıdakilerden hangisine değinilmemiştir?

- A) Önemli olanın başarının devamlılığı olduğuna
- B) Değersiz işler yapan insanlara prim kazandırdığımızı
- C) Bir eserin kalıcı olabilmesi için sadece konunun çekiciliğinin yeterli olmadığına
- D) Başarının daimi olabilmesinin kolay bir iş olmadığına
- E) İnsanların eserlerde nitelik araması gerektiğine

14. (I) Realizm, 19. yüzyılın ikinci yarısında romantizme tepki olarak doğmuş bir edebi akımdır. (II) Bu döneme kadar gelinen süreçte, fen bilimlerinde ve toplumsal bilimlerde önemli gelişmeler olmuştur. (III) Özellikle deneysel bilimlerde gelinen aşama olguların duygu, hayal ve metafizikle değil, maddi gerçeklerle açıklanması sonucunu doğurmuştur. (IV) Realist sanatçılar, anlattıklarında gözleme ve belgeye dayanır. (V) Realizmin doğuşundaki ikinci önemli etken, düşünsel alanda "olguculuk" felsefesidir. (VI) Olguculuk, neden - sonuç ilişkisine önem veren, doğayı ve insanları bilimin iki temel aracı olan gözlem ve deneyle açıklamaya çalışan felsefi bir düşünce sistemidir.

Yukarıdaki paragrafta düşüncenin akışını bozan cümle aşağıdakilerden hangisidir?

- A) II
- B) III
- C) IV
- D) V
- E) VI

15. (I) Türkoloji, yani Türklük bilimi, Türk'e ait olan bütün maddi ve manevi değerler üzerinde çalışan bir bilim dalı olduğu hâlde, Türkiye'de bu çalışma alanına olan ilgi oldukça azdır. (II) Türkoloji, öncelikle Batılı bilim adamlarının çalışmalarıyla sistemli bir hâle gelmiştir. (III) Türk dili ve tarihine ışık tutan en önemli belgeler olan Orhun Yazıtları'nın bulunup okunmasının hep Batılı bilim adamları tarafından gerçekleştirilmesi, Türklük bilimini çok geç fark ettiğimize bir örnektir. (IV) Her ne kadar Türkoloji'yi geç fark etmiş ve bu alandaki çalışmalarda Batılı bilim adamlarına göre geç kalmış olsak da, iki yüzyıl gibi bir süreç içerisinde Türklük biliminin özellikle Türkiye'de ve diğer Türkî Cumhuriyetler içinde ciddi anlamda geliştiğini görmek mümkündür. (V) En baştan beri olması gereken de bu değil midir?

Yukarıdaki paragrafta numaralandırılmış yerlerden hangisine "Daha sonraları, Türkiye'de bu bilim dalına ilgi uyanmıştır." cümlesini getirmek uygundur?

- A) I B) II C) III D) IV E) V

16. Aşağıdaki cümlelerden hangisinde eylemi derecelendiren bir sözcük kullanılmıştır?

- A) En iyi filmleri geçen yıl bu sinemada izlemiştim.
B) Bu binaların boyanması için para toplanmasına karar verildi.
C) Karşı kaldırıma geçmek için uzunca bir yol yürümemiz gerekti.
D) Sinirli bir şekilde konuştu benimle dün gece.
E) Söylediğim sözler karşısında çok üzülmüştü babam.

17. I. Kara kaplı defterini çıkardı yine not almak için.
II. Kurulu düzenini bozmamak için aldığı iş teklifini geri çevirdi.
III. Sorduğu karmaşık sorular karşısında öğretmen ne diyeceğini şaşırmişti.
IV. Birden karşısına çıkan üç kişi tarafından saldırıya uğramış.
V. Elindekileri şu odaya bırakabilirsin.

Yukarıdaki cümlelerin hangisi ikisinde varlığı belirten bir sözcük bulunmaktadır?

- A) I ve II B) I ve III C) II ve IV
D) III ve V E) IV ve V

18. İlk çağlarda insanlar, hayvanlardan korkuyorlardı. Hayvanlardan korunmak için evlerini dağların yamaçlarına, kayalıklara kuruyorlardı. Zamanla insanlar hayvanlara yaklaştılar. İnsanlar daha İlk Çağda kedi, köpek, at, koyun, sığır, keçi gibi hayvanları evcilleştirdiler. Evcilleşen hayvanlar, insanların yardımcıları oldu. Hayvanların sahiplerine bağlılıkları, hayvan sevgisinin doğup büyümesine yardımcı oldu. Hayvanları seven insanlar, hayvan hastalıklarını iyileştirmek için çalıştılar. Bugün uygar ülkelerde hayvan hastaneleri bulunmakta ve veterinerler hayvan hastalıklarını belirleyip bunun üzerinde çalışmalar yapmaktadırlar.

Yukarıdaki paragrafta aşağıdakilerden hangisine değinilmemiştir?

- A) İlk çağlarda insanların hayvanlara olan bakış açlarına
B) Bazı hayvanları evcilleştirdiklerine
C) İnsanlarda hayvan sevgisinin oluştuğuna
D) İnsanların, hayvanların birçok şeyinden faydalandıklarına
E) Hayvan hastalıklarıyla mücadele edildiğine

19. Turizm bir ülkenin milli değerlerinden biridir. (I) Ülke dışından veya ülke içinden insan gruplarının tarihi, sosyal, kültürel ve doğal açıdan önem taşıyan bir bölgeye yaptıkları geziye ve bu geziden ortaya çıkan potansiyele genel olarak turizm denir.(II) Yurt dışından gelenler dış turizm, yurt içinden gelenler ise iç turizmi oluştururlar. (III) Deniz, kum ve plajlarının güzelliğinden dolayı Antalya ve Muğla illerimiz, en önemli tatil turizmi bölgelerimizdir. (IV) Gerek yurt dışından, gerekse yurt içinden birçok insan tatillerini geçirmek üzere bu ve bunun gibi yörelerimize giderler. (V) İstanbul ise kültür turizmi açısından en önemli ilimizdir ve birçok yabancı turist İstanbul'a gelerek tarihi yerleri gezerler.

Yukarıdaki parça iki paragrafa ayrılmak istense ikinci paragraf hangi cümleyle başlar?

- A) I B) II C) III D) IV E) V

20. Toplumlardaki sevgi eksikliği büyük bir beladır. Sevgisizliğin yaşandığı toplumlarda göz göze gelmekten ve birbirlerine selam vermekten kaçınan, "Bana dokunmayan yılan bin yıl yaşasın" mantığıyla hareket eden, ihtiyaç içinde olana asla yardım etmeyen, kendi ihtiyaçlarını ve çıkarlarını daima ön planda tutan; bencil, hoş sohbetten uzak, donuk, robotlaşmış ve sevgiden olduğu gibi saygıdan da yoksun nesiller yetişir. İçinde bulunduğumuz zamanda hızla artan dejenerasyonun asıl kaynağı da toplumlarda yaşanan bu sevgi eksikliğidir.

Yukarıdaki paragrafta anlatılmak istenen temel düşünce aşağıdakilerden hangisidir?

- A) Bozulmuş toplumların bu hale gelmesinin temel nedeni birbirlerine karşı sevgi beslememeleridir.
B) Bir toplumda, insanlar birbirini sevdiği sürece gelişme görülür.
C) Bir tanıdığımıza rastladığımızda ona en azından bir selam vermeliyiz.
D) Kendi çıkarlarını öncelikli kılan kişi asla başarılı olamaz.
E) Çocuklarımızı sevgiyle büyütmeliyiz ki onlar da başkalarına sevgi duyabilsin.

21. Günlük telaşlar içinde koştururken, neleri kaçırdığımızın farkına varmıyoruz. (I) İş, güç, çoluk çocuk, geçim derdi derken bir de bakmışız ki yolun ortasında hatta bazen de sonundayız. (II) Hissizleşiyoruz toplum olarak. (III) Aile bağları ve toplumsal iletişim giderek daha azalıyor, hatta kopuyor. (IV) Nostalji olacak belki ama geçmişe duyulan özlem bence buradan kaynaklanıyor. (V) Eski dostlukları, sevgileri, komşulukları, müzikleri, filmleri özleyüyoruz.

Yukarıdaki paragrafta numaralandırılmış yerlerden hangisine " Belki de bu, günlük koşturmaca mekanikleştiriyor insanı." cümlesinin getirilmesi uygundur?

- A) I B) II C) III D) IV E) V

22. Her toplumun geleneksel, yüzyıllardır sürdürdükleri sanatları vardır. Toplumlar bu alandaki sanatçıları da destekleyerek bu sanatlarını yaşatırlar ve her yeni sanatçı da daha önceki birikimle bu sanatları geliştirir. Sanat, zamana ve toplumun değişimine, gelişimine göre yeni anlayışlar geliştirerek üsluplaşır, yeni boyutlar, yeni sanatçılar kazanır. Bizim de geleneksel sanatlarımız vardır: Tezyeni, Tezhip, Ebru, Minyatür, Hat... Osmanlı öncesinden alıp Osmanlı zamanında geliştirmişiz onları. Bir hat (yazı) sanatımızı düşünelim. Önce 6. yüzyılda "Zebed" yazısı vardı. 8. yüzyılda yerini "Küfi" yazısına bırakmıştı. 10. yüzyılda "Sülüs" ve "Nesih" yazısı hakim oldu. Burada görüldüğü gibi zaman ve toplumun gelişimi, değişimi ile sanatçılar, sanatı elden ele geliştirerek yaşatmışlardır.

Yukarıdaki paragrafta anlatılmak istenen asıl düşünce aşağıdakilerden hangisidir?

- A) Toplumlar arasında sanat alanında etkileşimler söz konusudur.
B) "Hat" sanatı Osmanlı döneminde, ünlü hattatlar tarafından geliştirilmiştir.
C) Sanatlar, toplumların kendi bünyesinde toplumun değişimine ve zamana bağlı olarak gelişme gösterir.
D) Toplumlar, sanatçıları maddi bakımdan desteklediği ölçüde sanatını geliştirebilir.
E) İnsanların sanata olan ilgisi arttıkça sanat alanında ilerleme kaydedilebilir.

23. Aşağıdaki cümlelerin hangisinde bir anlatım bozukluğu yoktur?

- A) Sen, ben ve Melda bu mağazanın en iyi satış elemanıydı.
- B) Davetiyesiz düşünümüze gelen birçok insan olmuş.
- C) Onunla rastlantı sonucu, İzmir'de bir mekanda tesadüfen karşılaştık.
- D) Onca sınava girmeyi gözüme kestiremediğimden kursu bıraktım.
- E) Bu toplantıda düşünceler, çekinmeden dile getirilmelidir.

24. Dün gece uyurken gördüğü rüyayı öyle büyük bir heyecanla anlattı ki bana.

Yukarıdaki cümlede bulunan anlatım bozukluğunun benzeri aşağıdaki cümlelerin hangisinde yoktur?

- A) Anahtarını içeride unutmuşum; eve girmek için yukarı tırmanmam gerekiyor.
- B) Geçen yıl geçirdiği trafik kazası yüzünden hâlâ ayağı topallıyordu.
- C) Öylesine şekilsiz ve biçimsiz bir evdi ki ne yaparsam yapayım eşyaları yerleştiremiyordum.
- D) İstanbul bembeyaz karlar altında kaldı yine.
- E) Belki bizim sınıfta da derece yapacak öğrenciler var tabii.

25. Aylin, kendi düşüncelerini zorla dayatmaya çalışıyordu bizlere.

Yukarıdaki cümlede bulunan anlatım bozukluğunun nedeni aşağıdakilerden hangisidir?

- A) Gereksiz sözcük kullanımı
- B) Sözcüğün yanlış anlamda kullanımı
- C) Yanlış yerde sözcük kullanımı
- D) Tamlayan eksikliği
- E) Nesne eksikliği

26. Aşağıdaki altı çizili sözcüklerden hangisi çıkarılırsa cümlelerin anlamında daralma olur?

- A) Belki haftaya ben de yanınıza gelebilirim.
- B) Bu yaz kesinlikle arkadaşlarımla birlikte bir tatil yapacağım.
- C) Gece gece dışarıdan gelen sesler beni korkutmuştu.
- D) Eşyaları bagaja yerleştirmeme yardım etmek için arabadan dışarı çıktık.
- E) Komşularımızı rahatsız etmemek için merdivenlerden aşağı yavaş yavaş indik.

27. Nasıl sanatsever olunur? Bana sorarsanız sanatçı gibi derim. Çünkü sanatseverlik sevmeye, inanmaya, disipline, hatta bir de bilgi birikimine dayanır. Sanatın güzelliğine ve insana kazanımlarına inanmanızı ve onunla bütünleşmeniz gerekir. Sonra bütün işlerinizde, günlük yaşamınızın programında sanat etkinliklerine yer ayırmalısınız. Bu da sanatın bir tür disiplini. "Şimdi ta oraya bir sergi için mi gideceksiniz?" gibi üşengeçliği olan da sanatsever olamaz. Sanatseverlik aynı zamanda sanata kadar emeğe de saygıdır. Ve de kutsaldır. Bu kutsallığını da gençliğimizde eskilerden duyardık ;ama şimdilerde anan kalmadı.

Yukarıdaki paragrafta anlatılmak istenen temel düşünce aşağıdakilerden hangisidir?

- A) Sanat sergilerini fırsat buldukça gezen kişi gerçek bir sanatseverdir.
- B) Sanatsever kişi bir süre sonra kendi eserlerini ortaya koyan bir sanatçıya dönüşebilir.
- C) Sanat belli bir birikimle emek harcanarak ortaya konur.
- D) Sanata, eskiler şimdiki nesilden daha çok ilgi duyarlar.
- E) Sanata ilgi duyan, sanatı seven, sanatçının emeğine saygı duyan ve böylelikle sanat etkinliklerinde yer alan kişi sözde değil özde sanatseverdir.

28. (I) Picasso, bir resmin insan üzerinde bıraktığı duygusal ve düşünsel etkinin anlatılmasının çok zor olduğunu vurgular "resim hissedilir" der. (II) Tıpkı bir kuş gördüğümüzde hissettiğimiz şeylere benzer bir durumu tarif eder. (III) Önemli olan resme bakmak değildir; resmi görmektir. (IV) Görüntülerin kendine özgü bir dili olduğunu düşündüğümüzde bir kuş imgesinin bulunduğu mekana göre binlerce farklı duygu hissettireceği kesin. (V) Çevre kirliliğinden dolayı tüyleri dökülmüş, bir kuşa baktığımızda hissettiğimiz şeylerle, özgürce ağaçların dallarında uçuşan kuşlara baktığımızda hissettiğimiz şeyler farklı farklı olacaktır.

Yukarıdaki paragrafta düşüncenin akışını bozan cümle aşağıdakilerden hangisidir?

- A) I B) II C) III D) IV E) V

29. Konuşanlarının sayısı bakımından Türkçe dünyada 5. sıradadır. Yapı bakımından dünya dilleri arasında sondan eklemeli denilen "agglutinant" diller arasında yer alır. Ural-Altay dillerinin en önde gelen örneğidir. Kendine özgü eylem düzeni ve biçim yapısı Hint-Avrupa dillerinden büyük ölçüde ayrılır. Bilinmeyen zamanlardan günümüze dek temel yapısını koruyarak gelmiştir. Sözgelimi Fransızca veya İngilizcenin uğradığı özgün yapıyı bozan ağır dış etkiler Türkçeyi sarsmamıştır. Buna karşılık söz dağarcığı yüzyıllar boyunca karşılaştığı çeşitli dillerden aldığı yabancı sözcüklerle dolmuştur. Bu durum kimilerince zenginlik kimilerince de yetersizlik olarak yorumlanmıştır.

Yukarıdaki paragrafta "Türkçe" ile ilgili aşağıdakilerden hangisine değinilmemiştir?

- A) Yapı bakımından nasıl bir dil olduğuna
- B) Yabancı dillerden sözcükleri bünyesinde barındırdığına
- C) Kendine özgü yapısının hiç değişmediğine
- D) Köklerden yeni birçok sözcük türetildiğine
- E) Hangi dil ailesine bağlı olduğuna

30. Güzel bir İstanbul sabahıydı. İnsanın içini ısıtan güneşli bir gündü. Çamlıca'da kahvaltı yapmak için arabama atlayıp yola koyuldum. Yemyeşil yollardan geçerken temiz havayı ciğerlerime doldurmaya özen gösteriyordum. Her zaman gittiğim bir mekan vardı. Otoparka arabayı park etmek için yanaştığım anda telefonum çalmaya başladı. O an, bu güzel İstanbul sabahında kendime ayırdığım kısacık zamanın heba olacağını anlamıştım.

Yukarıdaki paragrafta aşağıdakilerden hangisine başvurulmuştur?

- A) Öyküleme - örnekleme
- B) Betimleme - karşılaştırma
- C) Açıklama - tanımlama
- D) Betimleme - tartışma
- E) Öyküleme - betimleme

31. x, y, z birbirinden farklı pozitif tam sayılar

$$2x - 4y + 4z = 60$$

$$y - z = 4 \text{ olduğuna göre}$$

x 'in en küçük değeri kaçtır?

- A) 24 B) 28 C) 32 D) 38 E) 39

32. abc üç basamaklı ab iki basamaklı sayılar ve k bir reel sayı olmak üzere

a . $k = 3,4$

b . $k = 4$

c . $k = 7$ olduğuna göre,

$(abc + ab) \cdot k$ ifadesinin değeri kaçtır?

- A) 396 B) 408 C) 425
D) 504 E) 642

33. $\frac{7! - 6!}{5!}$

ifadesinin eşiti aşağıdakilerden hangisidir?

- A) 49 B) 48 C) 42 D) 38 E) 36

34. Dört basamaklı $4a2b$ sayısının 36 ile bölümünden kalan 15 ise a 'nın alabileceği en büyük değer aşağıdakilerden hangisidir?

- A) 4 B) 5 C) 6 D) 7 E) 8

35. $a + \frac{5}{b} = 4$

$b + \frac{5}{a} = 2$ olduğuna göre,

$\frac{a-4b}{a+b}$ 'nin değeri aşağıdakilerden hangisidir?

- A) 4 B) $\frac{7}{3}$ C) $\frac{1}{3}$ D) $-\frac{1}{3}$ E) $-\frac{2}{3}$

36. $A = \frac{1}{2} - \frac{7}{5} + \frac{11}{3}$ olduğuna göre,

$\frac{3}{2} + \frac{2}{5} + \frac{1}{3}$ ifadesinin A türünden değeri aşağıdakilerden hangisidir?

- A) $3 + A$ B) $A - 5$ C) $A + 5$
D) $5 - A$ E) $A + 1$

37. x ve y birer tam sayı olmak üzere,
 $2^{x-1} \cdot (2y - 1) = 36!$
 olduğuna göre, x 'in alabileceği en büyük değer kaçtır?

A) 25 B) 32 C) 35 D) 39 E) 47

38.
$$\frac{\frac{27}{13} - \frac{7}{17} - \frac{9}{29}}{-\frac{14}{13} - \frac{10}{17} + \frac{9}{29}}$$

işleminin sonucu aşağıdakilerden hangisidir?

A) 1 B) $-\frac{21}{231}$ C) $-\frac{11}{469}$
 D) $-\frac{118}{351}$ E) -1

39. $a < a^2 < |a|$
 olduğuna göre, ifadesini sağlayan a 'nın değer aralığı aşağıdakilerden hangisidir?

A) $-1 < a < 1$ B) $a < 1$ C) $a > -1$
 D) $-1 < a < 0$ E) $0 < a < 1$

40. $|x - 1| > 4$

eşitsizliğini sağlamayan kaç farklı x tam sayısı vardır?

A) 6 B) 7 C) 8 D) 9 E) 10

41.
$$\frac{x^3 - 1}{x^2 - 1} : \frac{x^2 + x + 1}{x - 1}$$

ifadesinin en sade şekli aşağıdakilerden hangisidir?

A) 1 B) $x - 1$ C) $\frac{x+1}{x-1}$
 D) $\frac{x-1}{x+1}$ E) $x + 1$

42. a, b, c birer reel sayı olmak üzere

$$2^a = 54$$

$$3^b = 7$$

$$5^c = 211$$

olduğuna göre, a, b, c arasındaki sıralama aşağıdakilerden hangisidir?

- A) $b < a < c$ B) $b < c < a$ C) $c < a < b$
D) $c < b < a$ E) $a < b < c$

43.

$$\frac{\sqrt{1+\frac{9}{16}} + \sqrt{1+\frac{25}{144}}}{\sqrt{1+\frac{64}{225}}}$$

işleminin sonucu aşağıdakilerden hangisidir?

- A) $\frac{1}{3}$ B) $\frac{7}{9}$ C) $\frac{95}{46}$ D) $\frac{17}{39}$ E) $\frac{35}{17}$

44.

$$a = 2^{x-1}$$

$$b = 3^{1-x}$$

6^{x-1} 'in a ve b türünden eşiti aşağıdakilerden hangisidir?

- A) $\frac{a}{9b}$ B) $\frac{9a}{b}$ C) $\frac{a}{36b}$ D) $\frac{a}{b}$ E) $\frac{36a}{b}$

45. Üç kardeşin yaşları toplamı 5, 8 ve 11 sayılarıyla orantılıdır.

En büyük kardeş en küçük kardeşten 42 yaş büyük olduğuna göre, bu üç kardeşin yaşları toplamı kaçtır?

- A) 114 B) 131 C) 146 D) 168 E) 171

46.

$$\frac{27^x + 1}{9^x - 3^x + 1} = 82$$

eşitliğini sağlayan x değeri aşağıdakilerden hangisidir?

- A) 1 B) 2 C) 3 D) 4 E) 5

47.

$$\sqrt{\frac{25}{16} + \frac{16}{9} - \frac{10}{3}}$$

işleminin sonucu aşağıdakilerden hangisidir?

- A) $\frac{1}{12}$ B) $\frac{1}{4}$ C) $\frac{2}{5}$ D) $\frac{5}{12}$ E) $\frac{7}{12}$

48. Ayşe parasının önce $\frac{2}{5}$ ini daha sonra kalanının $\frac{1}{3}$ ünü , daha sonra kalanının $\frac{1}{4}$ ünü harcamıştır.

Geriyeye 54 TL si kaldığına göre Ayşe'nin başlangıçta kaç TL parası vardı?

- A) 124 B) 132 C) 144 D) 160 E) 180

49. Bir babanın 3 yıl önceki yaşının $\frac{1}{3}$ ü oğlunun şimdiki yaşına eşittir.

2 yıl sonra baba ile oğlunun yaşları toplamı 79 olacağına göre, babanın şimdiki yaşı kaçtır?

- A) 60 B) 57 C) 52 D) 48 E) 39

50. Zehra bir işi tek başına 30 günde, Hatice ise tek başına 45 günde yapmaktadır.

Buna göre, ikisi birlikte bu işi kaç günde yapar?

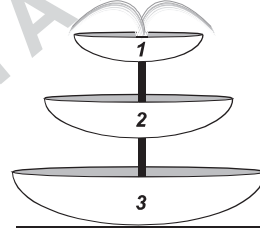
- A) 14 B) 15 C) 18 D) 20 E) 24

51. Bir otobüste bulunan kişilerin %40'ı Erkek, %50'si bayan, %10'u ise çocuktur.

Erkek sayısı çocuklardan 15 kişi fazla ise bu otobüste kaç kişi vardır?

- A) 20 B) 30 C) 40 D) 50 E) 60

52.



Şekildeki havuzlardan

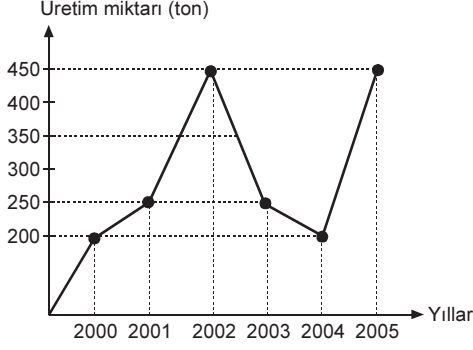
1. havuzun hacmi 2V
2. havuzun hacmi 3V
3. havuzun hacmi 5V

2. havuz 1. den taşan su ile 3. havuz 2. den taşan su ile dolmaktadır.

Havuzlar boşken fiskiye açıldığında 2. havuzun $\frac{2}{3}$ ü 16 saatte dolduğuna göre, **bundan kaç saat sonra 3. havuzun yarısı dolar?**

- A) 6 B) 8 C) 14 D) 24 E) 30

53. VE 54. SORULARI AŞAĞIDAKİ GRAFİĞE GÖRE CEVAPLAYINIZ.



Yukarıdaki grafik bir fabrikanın yıllık üretim miktarlarını göstermektedir.

53. 2000 - 2005 yılları arasındaki üretimi bir daire grafiğinde gösterilirse 2000 yılının daire diliminin merkez açısı kaç derece olur?

- A) 40 B) 50 C) 60 D) 70 E) 90

54. 2006 yılındaki üretim kaç ton olursa 2002 yılındaki üretim toplam üretimin % 22,5'ine eşit olur?

- A) 200 B) 250 C) 300 D) 350 E) 400

55. İki torbadan birinde 3 mavi, 4 sarı, diğerinde 2 mavi, 4 sarı bilye vardır.

Her iki torbadan birer bilye çekildiğinde, birinin mavi, diğerinin sarı olma olasılığı kaçtır?

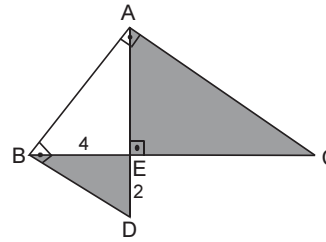
- A) $\frac{5}{21}$ B) $\frac{8}{21}$ C) $\frac{9}{21}$ D) $\frac{10}{21}$ E) $\frac{13}{21}$

56. Bir duvar saati 11 saate bir kuruluyor.

İlk olarak Cuma 15:00'da kurulan bu saat 26. defa hangi gün, saat kaçta kurulur?

- A) Cuma, saat 04:00
B) Cumartesi, saat 22:00
C) Pazar, saat 13:00
D) Pazartesi, saat 04:00
E) Çarşamba, saat 02:00

57.

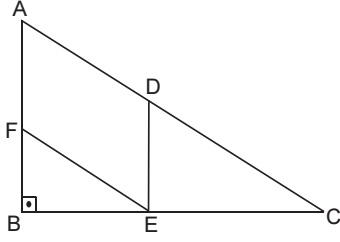


ABD ve
ABC dik üçgen
[AD] ⊥ [BC]
|BE| = 4 cm
|ED| = 2 cm

Yukarıda verilenlere göre, taralı alanlar toplamı kaç cm² dir?

- A) 80 B) 68 C) 62 D) 48 E) 40

58.



ABC dik üçgen
 ADEF eşkenar
 dörtgen
 $IADI = 10$ cm
 $IFBI = 6$ cm

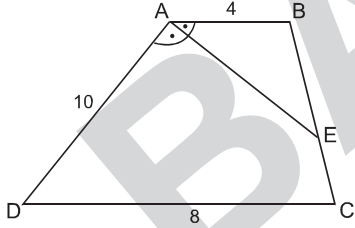
Yukarıda verilene göre $IECI$ kaç cm dir?

- A) $\frac{60}{3}$ B) 6 C) 12 D) $\frac{20}{3}$ E) $\frac{40}{3}$

60. $(2, -3)$ noktasından geçen ve $3x - 6y + 5 = 0$ doğrusuna dik olan doğrunun denklemi aşağıdakilerden hangisidir?

- A) $2y - 2x - 1 = 0$ B) $y + 2x - 1 = 0$
 C) $y - 2x - 1 = 0$ D) $2x - y + 3 = 0$
 E) $3x - y + 4 = 0$

59.



ABCD yamuk
 $[AE]$ açıortay
 $IABI = 4$ cm
 $IADI = 10$ cm
 $IDCI = 8$ cm

Yukarıda verilenlere göre, $\frac{IEI}{IECI}$ oranı kaçtır?

- A) 1 B) $\frac{1}{2}$ C) $\frac{2}{3}$ D) 2 E) $\frac{5}{2}$

1. Türklerde iktidarın hem "ilahi" hem de "kanuni" sayılması,

- I. Kağanın kendisini Tanrı'ya ve Türk töresine karşı sorumlu sayması,
- II. Kağanın icraatlarının millet tarafından kontrol edilebilmesi,
- III. Kağanın belirli bir süre tahtta kalması

durumlarından hangilerine neden olmuştur?

- A) Yalnız I B) Yalnız II C) Yalnız III
D) I ve II E) I, II ve III

2. I. Coğrafi şartlar
II. Dini inançlar
III. Siyasi amaçlar

Yukarıdakilerden hangileri, Orta Asya'da kurulan Türk devletlerinin topraklarını doğu ve batı yönünde genişletmelerinde doğrudan etkili olmuştur?

- A) Yalnız I B) Yalnız II C) I ve II
D) I ve III E) II ve III

3. IX. yüzyılda yaşayan, astronomi, coğrafya, matematik alanlarında çalışmalar yapan ve cebirdeki şöhreti Avrupa'ya kadar yayılan Müslüman Türk bilgini aşağıdakilerden hangisidir?

- A) Ali Kuşçu B) Harezmi C) Farabi
D) Uluğ Bey E) İbn-i Sina

4. Aşağıdakilerden hangisi, Türkiye Selçukluları Dönemi'ne ait değildir?

- A) Mardin Ulu Cami
B) Konya İnce Minareli Medrese
C) Kayseri Döner Kümbet
D) Sivas Gök Medrese
E) Niğde Alaaddin Cami

5. Osmanlı Devleti'nde Kazasker,

- I. eğitim,
- II. hukuk,
- III. askerlik

alanlarından hangilerinde görev ve yetkilere sahiptir?

- A) Yalnız I B) Yalnız II C) I ve II
D) II ve III E) I, II ve III

6. Osmanlı devlet ve toplum yapısı ile ilgili olarak aşağıdaki seçeneklerin hangisinde yapılan eşleştirme yanlıştır?

- A) Tahrir Toprak kayıt defteri
B) Zeamet Dirlik türü
C) Danişment Medrese öğrencisi
D) Cebelü Atlı asker
E) Fetva Padişah buyruğu

7. Osmanlı Devleti'nin XVIII. yüzyılda yaptığı ıslahatlara dayanarak aşağıdaki yargılardan hangisine ulaşılabilir?

- A) Avrupa'daki gelişmeler yakından izlenmeye başlanmıştır.
- B) Avrupa'nın üstünlüğü kabul edilmiştir.
- C) Ordu modernize edilmeye çalışılmıştır.
- D) Padişahın hukuki yetkileri kısıtlanmıştır.
- E) Pozitif bilimlerin okutulduğu yeni okullar açılmıştır.

8. Aşağıdakilerden hangisi, Osmanlı Devleti'nde Tanzimat Dönemi'nde yaşanan gelişmeler arasında gösterilemez?

- A) Yeni yargılama usullerinin benimsenmesi
- B) Bankacılık faaliyetlerinin başlaması
- C) Siyasi örgütlenmenin önündeki engellerin kaldırılması
- D) Kızların eğitimi ve öğretimine yönelik çalışmalar yapılması
- E) Azınlık haklarının genişletilmesi

9. Osmanlı Devleti'nde padişahın yasama, yürütme ve yargı üzerindeki yetkilerinin azalmasında aşağıdakilerden hangisi diğerlerinden daha etkili olmuştur?

- A) Sened-i İttifak'ın imzalanması
- B) Tanzimat Fermanı'nın ilan edilmesi
- C) Islahat Fermanı'nın ilan edilmesi
- D) Kanun-i Esasi'nin yürürlüğe girmesi
- E) 1909'da Anayasa değişikliğinin yapılması

10. Mondros Ateşkes Antlaşması'nın ardından Anadolu'nun işgal edilmeye başlaması ve bu duruma İstanbul Hükümeti'nin tepkisiz kalması öncelikli olarak aşağıdakilerden hangisine neden olmuştur?

- A) Müdafaa-i Hukuk Cemiyetlerinin kurulmasına
- B) Kuva-i Milliye birliklerinin oluşturulmasına
- C) Protesto gösterilerinin yaygınlaşmasına
- D) Bölgesel kongrelerin toplanmasına
- E) Mustafa Kemal'in Samsun'a çıkmasına

11. Amasya Genelgesi'nin "Milletin istiklalini yine milletin azim ve kararı kurtaracaktır. Millet hâl ve durumunu gözden geçirmek ve hak isteyen sesini cihana işittirmek için her türlü tesir ve denetimin dışında milli bir heyetin varlığı lazımdır." maddesine dayanarak,

- I. Temsil Heyeti,
- II. Son Osmanlı Mebusan Meclisi,
- III. TBMM

organlarından hangilerinin "milli bir heyet" özelliği taşıdığı söylenebilir?

- A) Yalnız I
- B) Yalnız II
- C) Yalnız III
- D) I ve II
- E) I, II ve III

12. Son Osmanlı Mebusan Meclisi milletvekilleri ile I. TBMM milletvekilleri,

- I. ülkenin işgallerden kurtarılması,
- II. Misak-ı Milli Kararları'nın savunulması,
- III. ulus egemenliğinin güçlendirilmesi

hedeflerinden hangilerinde benzer bir tavır içinde olmuşlardır?

- A) Yalnız I
- B) Yalnız II
- C) Yalnız III
- D) I ve II
- E) I, II ve III

13. Kurtuluş Savaşı, TBMM'nin düzenli ordu kurmasından sonra etkili bir şekilde yürütülmüştür.

Aşağıdakilerden hangisi bu süreçte yaşanmıştır?

- A) İngiltere'nin Musul'u işgal etmesi
B) Sovyet Rusya'nın Misak-ı Milli'yi tanıması
C) Misak-ı Milli'nin kabul edilmesi
D) İstanbul'un işgal edilmesi
E) Amasya Görüşmeleri'nin yapılması

14. I. Erzurum ve Sivas Kongresi kararları
II. Son Osmanlı Mebusan Meclisi tarafından alınan Misak-ı Milli kararları
III. Mustafa Kemal tarafından yayımlanan Tekalif-i Milliye Emirleri

Yukarıdakilerden hangileri Yeni Türk Devleti'nin dış siyasetinin belirlenmesinde etkili olmuştur?

- A) Yalnız I B) Yalnız II C) Yalnız III
D) I ve II E) I, II ve III

15. Yeni Türk Devleti'nin I. TBMM döneminde Sovyet Rusya ile ilişkilerini güçlendirmesinde aşağıdakilerden hangisinin etkisinin daha az olduğu söylenebilir?

- A) Boğazlar üzerinde egemenlik kurmak
B) Siyasi alanda tanınmak
C) Silah ve mühimmat ihtiyacını karşılamak
D) Anadolu'daki işgalleri sona erdirmek
E) Doğu sınırını güvence altına almak

16. TBMM'nin,

- I. Moskova Antlaşması'nı imzalaması,
II. I. İnönü Savaşı'nı kazanması,
III. Sevr Antlaşması'nı tanımaması

faaliyetlerinden hangileri, Fransa'yı Anadolu ile ilgili politikalarında değişiklik yapmaya zorlamıştır?

- A) Yalnız I B) Yalnız II C) I ve II
D) II ve III E) I, II ve III

17. Gürcistan, Temmuz 1920'de Batum'u işgal ederek,

- I. Brest - Litovsk,
II. Batum,
III. Moskova

antlaşmalarından hangilerine aykırı hareket etmiştir?

- A) Yalnız I B) Yalnız II C) I ve II
D) I ve III E) II ve III

18. Mustafa Kemal Batı Cephesi Komutanlığına gönderdiği telgrafta "..... siz orada yalnız düşmanı değil, milletin kötü giden talihini de yendiniz." diyerek, aşağıdaki savaşlardan hangisinde kazanılan başarıyı vurgulamıştır?

- A) I. İnönü
B) II. İnönü
C) Kütahya - Eskişehir
D) Sakarya
E) Büyük Taarruz

19. I. Ankara'nın başkent ilan edilmesi
II. İzmir İktisat Kongresi'nin toplanması
III. İkinci TBMM'nin açılması

Yukarıdaki gelişmelerin kronolojik sıralaması aşağıdaki seçeneklerin hangisinde doğru verilmiştir?

- A) I - II - III B) I - III - II C) II - I - III
D) II - III - I E) III - II - I

20. I. Takrir-i Sükun Kanunu'nun çıkarılması
II. Halifeliğin kaldırılması
III. Kadınlara siyasi haklar verilmesi
IV. Lozan Antlaşması'nın onaylanması

Yukarıdakilerden hangileri II. TBMM tarafından gerçekleştirilmiştir?

- A) I ve II B) I ve IV C) I, II ve IV
D) II, III ve IV E) I, II, III ve IV

21. Aşağıdakilerden hangisinde verilen I. olay, II. olayın oluşumunda etkili değildir?

I. Olay

II. Olay

- | | |
|--|---|
| A) Tevhid-i Tedrisat Kanunu'nun kabul edilmesi | Din eğitiminin devlet kontrolüne alınması |
| B) Türk Dil Kurumu'nun kurulması | Halkın konuştuğu Türkçe'nin bilim, edebiyat ve eğitim dili haline getirilmesi |
| C) 1929 Ekonomik Krizin derinleşmesi | I. Beş yıllık Kalkınma Planı'nın hazırlanması |
| D) Çift dereceli seçim sisteminden, tek dereceli seçim sistemine geçilmesi | Meclis hükümeti sistemi yerine kabine sisteminin uygulanmaya başlanması |
| E) Yeni Türk harflerinin kabul edilmesi | Millet Mekteplerinin açılması |

22. I. Beş Yıllık Kalkınma Planı'nın hazırlanması, öncelikli olarak aşağıdakilerden hangisine önem verileceğini gösterir?

- A) Uluslararası ticaretin geliştirilmesine
B) İhracatın artırılmasına
C) Devlet yatırım ve işletmeciliğine
D) Özel sektörün güçlendirilmesine
E) Kalkınmada öncelikli bölgelere yatırımların teşvik edilmesine

23. 1923 - 1930 yılları arasında ithalatın fazla, ihracatın az olması nedeniyle Türk parası değer kaybetmekteydi. Yabancı bankalar, ihracat bedellerinin ödemesi sırasında Türk parasının değerini yükseltmekte, ithalat sırasında ise Türk parasının değerini düşürmekteydiler. Yabancı bankaların bu uygulaması Türkiye'de milli sermaye birikimine imkan vermiyordu.

Aşağıdakilerden hangisi doğrudan bu olumsuz durumu ortadan kaldırmaya yöneliktir?

- A) Kapütülasyonların kaldırılması
B) I. Beş Yıllık Kalkınma Planı'nın hazırlanması
C) Kabotaj Kanunu'nun kabul edilmesi
D) Merkez Bankası'nın kurulması
E) Hazine Müsteşarlığı'nın oluşturulması

24. I. "Atılan adımlar, bundan sonra atılması gereken adımların başlangıcıdır."
II. "Beyan etmeliyiz ki devlet ve fert birbirlerine karşı değil, birbirlerinin tamamlayıcısıdır."
III. "Artık, hükümetle millet arasında geçmişteki ayrılık kalmamıştır. Hükümet millet, millet hükümettir."

Atatürk'ün yukarıdaki sözlerinin doğrudan ilgili olduğu ilkeler, aşağıdaki seçeneklerin hangisinde doğru sıralanmıştır?

- | | | | |
|----|-----------------|-------------|-----------------|
| | <u>I</u> | <u>II</u> | <u>III</u> |
| A) | Cumhuriyetçilik | Devletçilik | Milliyetçilik |
| B) | İnkılapçılık | Devletçilik | Cumhuriyetçilik |
| C) | İnkılapçılık | Laiklik | Milliyetçilik |
| D) | Devletçilik | Halkçılık | Cumhuriyetçilik |
| E) | Laiklik | Halkçılık | Devletçilik |

25. I. Demokratik siyaset
II. Kanun önünde eşitlik
III. Sosyal dayanışma

Yukarıdakilerden hangilerinin, halkçılık ilkesinin bir gereği olduğu söylenebilir?

- A) Yalnız I B) Yalnız II C) Yalnız III
D) II ve III E) I, II ve III

26. I. Din eğitimin devlet tarafından düzenlenmesi
II. Vicdan özgürlüğünün sağlanması
III. İbadet yerlerinin devletin kontrolünde açılması

Yukarıdakilerden hangileri, Atatürkçü düşünce sisteminde laiklik ilkesinin gerektirdiği unsurlar arasında gösterilebilir?

- A) Yalnız I B) Yalnız II C) Yalnız III
D) I ve II E) I, II ve III

27. Atatürk milliyetçiliği,

- I. Türk kültürünü araştırma ve geliştirme,
II. dünya Türklerini tek bayrak altında birleştirme,
III. batı normlarına uygun bir idare ve ekonomik yapı oluşturma

hedeflerinden hangileri ile Osmanlı Devleti'nin son döneminde ortaya çıkan Türk milliyetçiliğinden ayrılır?

- A) Yalnız I B) Yalnız II C) Yalnız III
D) I ve II E) II ve III

28. Aşağıdakilerden hangisi 1929 yılında Türkiye'yi Yunanistan ile yeni bir savaşın eşiğine getirmiştir?

- A) Yunanistan'ın, Batı Rumeli Türklerinin mallarına el koyarak buralara Türkiye'den gelen Rumları yerleştirmeye başlaması
B) Türkiye'nin Kıbrıs'taki Rumlara karşı, Türkleri korumak için adaya askeri birlik göndermesi
C) Türk - Yunan sınırındaki anlaşmazlıkların çözümü için yapılan görüşmelerin sonuçsuz kalması
D) Türkiye'nin Fener Rum Patrikhanesi'nin siyasi yetkilerine son vermesi
E) Yunanistan'ın Ege Denizi'ndeki kıta sahanlığını 8 milden 12 mile çıkarması

29. Türkiye Balkan Antantı ve Sadabat Paketi'ni imzalarak,

- I. Yunanistan,
II. Bulgaristan,
III. Irak,
IV. Suriye

sınırlarından hangilerini güvence altına almıştır?

- A) I ve III B) I ve IV C) II ve III
D) I, II ve III E) I, II, III ve IV

30. Aşağıdakilerden hangisi II. Dünya Savaşı'ndan önce meydana gelmiştir?

- A) Birleşmiş Milletler Teşkilatı'nın kurulması
B) Türkiye'nin Nato'ya üye olması
C) Demokrat Parti'nin kurulması
D) Köy Enstitülerinin açılması
E) Halkevlerinin kurulması

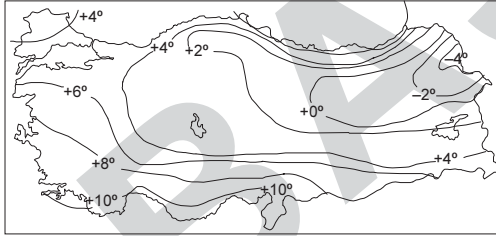
31. Türkiye'nin;

- I. 21 Haziran'da en uzun gündüzü yaşaması,
- II. 23 Eylül'de gece - gündüz süresinin eşit olması,
- III. 21 Aralık'tan itibaren gündüzlerin uzamaya başlaması

özelliklerinden hangileri, Türkiye'nin Kuzey Yarım Küre'de bulunduğunu kanıtlar?

- A) Yalnız I B) Yalnız II C) I ve II
D) I ve III E) II ve III

32. Aşağıda Türkiye'nin Ocak ayına ait indirgenmiş izoterm haritası verilmiştir.



Haritadan yararlanarak aşağıda verilen özelliklerden hangisine ulaşamaz?

- A) Kuzeydoğu Anadolu'da yükseltiye bağlı olarak sıcaklıklar düşüktür.
- B) Kıyılardan iç kesimlere gidildikçe sıcaklıklar azalmaktadır.
- C) En sıcak yerlerin Akdeniz kıyıları olmasında enlem ve denizellik etkili olmuştur.
- D) Marmara denizi ve çevresinde sıcaklıklar 4°C'nin üzerindedir.
- E) Aynı enlemden bulunan, karalar ve denizlerin sıcaklıkları farklıdır.

33. Anadolu büyük oranda yakın jeolojik zamanda oluşmuş genç bir arazi yapısına sahiptir.

Aşağıda verilen özelliklerden hangisi Anadolu'nun genç bir arazi olduğunu göstermez?

- A) Akarsuların denge profiline ulaşmamış olması
- B) Yükselti ve engebenin fazlalığı
- C) Bazı bölgelerde masif arazilere rastlanması
- D) Zengin linyit rezervlerinin bulunması
- E) Sık sık büyük depremlerin görülmesi

34. Türkiye'de nüfus yer şekillerinin, iklim koşullarının uygun olduğu ve ekonomik faaliyetlerin geliştiği alanlarda yoğunlaşmıştır.

Buna göre, aşağıda verilen alanların hangisinde iklim koşulları uygun olduğu halde nüfus yoğunluğu düşüktür?

- A) Kıyı Ege Ovaları
- B) Çatalca – Kocaeli Platosu
- C) Yukarı Kızılırmak Bölümü
- D) Çoruh Vadisi
- E) Menteşe Yöresi

35. Türkiye'de 1950'li yıllardan sonra iç göç hareketi hızlanmış ve bunun sonucunda nüfusun büyük bir bölümü kentlerde toplanmıştır.

Türkiye'de yaşanan iç göç hareketlerine neden olan faktörler arasında hangisi yer almaz?

- A) Erozyon nedeniyle toprakların verimsizleşmesi
- B) Alt yapı sorunlarının ortaya çıkması
- C) Tarımda makine kullanımının artması
- D) Miras yoluyla tarım alanlarının bölünmesi
- E) Kırsal alanlarda hizmet sektörünün gelişmemesi

36. Türkiye'nin kırsal alanlarında, bir veya birkaç evden oluşan köy altı yerleşmeleri yaygındır.

Bu yerleşmelerin ortaya çıkmasında;

- I. sanayi tesislerine yakın olmak istenmesi,
- II. hayvanlar için otlak temini,
- III. ailelerin bağımsız yaşama arzusu,
- IV. ulaşımın gelişmemesi

gibi faktörlerden hangileri etkili olmuştur?

- A) I ve II B) I ve III C) II ve III
D) II ve IV E) III ve IV

37. Konya ovası ve çevresinde yaygın olan buğday yetiştiriciliğinden elde edilen verimde, bazı yıllar azalma olmasında aşağıdaki özelliklerden hangisi daha fazla etkili olmaktadır?

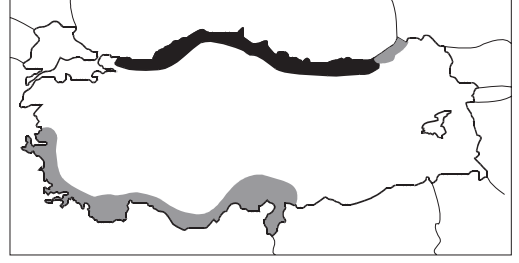
- A) Yazların sıcak ve kurak geçmesi
- B) Kış yağışlarının kar şeklinde olması
- C) Donlu gün sayısının fazlalığı
- D) İlkbahar yağışlarının azalması
- E) Sonbahar mevsiminin serin geçmesi

38. Türkiye'de geniş tarım alanlarında ekim yapılmasına karşın, birim alandan elde edilen verim düşüktür.

Türkiye'de tarım alanlarından elde edilen verimi artırmak için, yapılması gerekenler arasında hangisi yer almaz?

- A) Ekim alanlarını genişletmek
- B) Sulama imkanlarını artırmak
- C) Tohum ıslah çalışmaları yapmak
- D) Gübre kullanımını yaygınlaştırmak
- E) Makine kullanımını artırmak

39.



Yukarıdaki Türkiye haritasında "■ , ■" ile taranarak gösterilen alanlarda, yaygın olarak yetiştirilen tarım ürünleri hangisidir?

- | | |
|-----------------|--------------|
| ■ | ■ |
| _____ | _____ |
| A) Fındık | Çay |
| B) Zeytin | Mısır |
| C) Tütün | Şekerpancarı |
| D) İncir | Buğday |
| E) Turunçgiller | Fındık |

40. Kümes hayvancılığı; özel kapalı alanlarda yapılan modern bir hayvancılık faaliyetidir.

Kümes hayvancılığının Güney Marmara ve Kıyı Ege bölümlerinde gelişmesinde aşağıdakilerden hangisi daha fazla etkili olmuştur?

- A) Kış mevsiminin ılık geçmesi
- B) Yer şekillerinin sade olması
- C) Ulaşım ve pazarlama koşullarının uygunluğu
- D) Verimli otlakların bulunması
- E) Yem üretiminin fazla olması

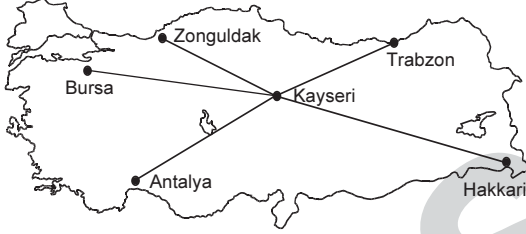
41. Türkiye'de elektrik üretmek amacıyla kurulmuş olan;

- I. Denizli – Sarayköy,
- II. Zonguldak – Çatalağzı,
- III. Ankara – Çayırhan,
- IV. Elazığ – Keban

santrallerinden hangilerinin çevreye verdiği zarar diğerlerinden daha azdır?

- A) Yalnız I B) I ve II C) II ve III
D) I ve IV E) III ve IV

42.



Türkiye'nin yer şekilleri özellikleri düşünüldüğünde, Kayseri ile harita üzerinde gösterilen diğer kentlerden hangisi arasında yapılacak yeni bir demir yolunun km. maliyeti daha düşük olur?

- A) Antalya B) Bursa C) Zonguldak
D) Trabzon E) Hakkari

43. – Yağış miktarı en düşük
– Tarım alanları en fazla
– Plato arazileri en geniş

Yukarıda bazı özellikleri verilen coğrafi bölge aşağıdakilerden hangisidir?

- A) Güneydoğu Anadolu
B) Doğu Anadolu
C) Akdeniz
D) Marmara
E) İç Anadolu

44. Türkiye'de son dönemde ulaşım, konaklama ve tanıtım hizmetlerinin gelişmesi, turizmi pek çok yörede ekonomik bir faaliyet haline getirmiştir.

Turizmin geliştiği yörelerde görülen değişiklikler arasında hangisi yer almaz?

- A) Bölge dışına göçlerin artması
B) Ticaretin gelişmesi
C) Ekili alanların azalması
D) Çevre kirliliğinin artması
E) Konut yapımının hızlanması

45. Karadeniz Bölgesi'nin ekonomik gelirleri içerisinde hangisinin payı diğerlerinden daha azdır?

- A) Fındık ve çay yetiştiriciliği
B) Kereste üretimi
C) Açık deniz balıkçılığı
D) Taş kömürü çıkarımı
E) Bakır işlemeciliği

46. Türkiye'de yürütülen endüstri faaliyetleriyle ilgili aşağıda verilenlerden hangisinin gelişme nedeni diğerlerinden farklıdır?

- A) Kars ve çevresinde peynir üretimi.
B) Karaman'da bisküvi üretimi yapılması.
C) Batı Karadeniz Bölümü'nde kağıt üretimi.
D) İzmir - Aliağa'da petrol rafinerisi kurulması.
E) Siirt ve çevresinde battaniye üretimi yapılması.

47. İnsani gelişim endeksi, her ülkedeki yaşam uzunluğu, okur - yazar oranı, eğitim ve yaşam düzeyi doğrultusunda hazırlanan bir ölçümdür.

Endekse göre;

0,1 - 0,5 arası düşük gelişmişlik

0,5 - 0,7 arası orta gelişmişlik

0,8 - 0,9 arası yüksek gelişmişlik

0,9 - ve üzeri çok yüksek gelişmişlik düzeyini gösterir.

Ülke	İnsani Gelişim Endeksi	Satın alma gücü (\$)
Norveç	0,971	53,433
Türkiye	0,806	12,955
Çin	0,772	7,851
Uganda	0,514	1,059
Nijer	0,340	627

Buna göre, Türkiye ile tabloda verilen diğer ülkeleri karşılaştırdığımızda, aşağıda verilen yargılardan hangisine ulaşamaz?

- A) Norveç'te okuma - yazma oranı Türkiye'den yüksektir.
- B) Türkiye'de ortalama insan ömrü Uganda'dan uzundur.
- C) Çin'de okullaşma oranı Türkiye'den fazladır.
- D) Türkiye yüksek insani gelişmişlik düzeyine sahiptir.
- E) Türkiye'nin satın alma gücü, Nijer'inin 20 katından biraz fazladır.

48. Yıldız Dağları Bölümü'nün,

- I. yağış miktarı fazladır,
 II. tahıl üretimi yaygındır,
 III. ana yolların uzağında kalır,
 IV. tarımsal nüfus yoğunluğu düşüktür

özelliklerinden hangileri doğrudur?

- A) I ve II B) I ve III C) II ve III
 D) I ve IV E) III ve IV

49. Türk Medeni Kanununa göre çocuk ile ana arasında soybağı aşağıdakilerden hangisiyle kurulur?

- A) Doğumla
 B) Doğum kütüğüne kaydedilmekle
 C) Adli tıp raporuyla
 D) Mahkeme kararı ile
 E) Nüfus belgesinin düzenlenmesiyle

50. Yürürlükteki yazılı hukuk kuralları ile örf adet hukuku kurallarının bütününe ne ad verilir?

- A) Gerçek hukuk
 B) Pozitif hukuk
 C) Mevzu hukuk
 D) Olması gereken hukuk
 E) Tabii hukuk

51. Aşağıdakilerden hangisi Medeni Kanun'da sayılan kısıtlama nedenlerinden biri değildir?

- A) Akıl zayıflığı
 B) Kötü yaşama tarzı
 C) Okuma yazma bilmemek
 D) Savurganlık
 E) Alkol bağımlılığı

52. "Türk Anayasa tarihindeki tek esnek ve çerçeve anayasadır. Kuvvetler birliği ve Meclis hükümeti sistemini benimsemiştir. Yasama ve yürütme güçleri Meclis'te toplanmıştır."

Yukarıda, hangi Anayasanın özellikleri belirtilmektedir?

- A) 1876 Anayasası
- B) 1921 Anayasası
- C) 1924 Anayasası
- D) 1961 Anayasası
- E) 1982 Anayasası

53. Aşağıdakilerden hangisi Anayasanın değişmez hükümlerinden biri değildir?

- A) Devletin şeklinin Cumhuriyet olması
- B) Hukuk devleti ilkesi
- C) Sosyal devlet ilkesi
- D) Parlamenter sistem
- E) Başkent'in Ankara olması

54. 1982 Anayasasına göre TBMM aşağıdaki yetkilerinden hangisini kanunla kullanır?

- A) Bir milletvekilinin dokunulmazlığının kaldırılması
- B) Milletlerarası antlaşmanın onaylanmasının uygun bulunması
- C) Sıkıyönetimin uzatılması
- D) Bir bakanın Yüce Divana sevk edilmesi
- E) TBMM İçtüzüğünde değişiklik yapılması

55. Türkiye Büyük Millet Meclisi, çalışmalarını aşağıdakilerden hangisine göre yürütür?

- A) Anayasa ve TBMM İçtüzüğü
- B) Siyasi Partiler Kanunu
- C) Yüksek Seçim Kurulu Kararları
- D) Bakanlar Kurulu Kararları
- E) TBMM Başkanının çıkaracağı kararname

56. 1982 Anayasasına göre, başbakanın atanmasıyla ilgili aşağıdaki ifadelerden hangisi doğrudur?

- A) Meclis üyeleri arasından Cumhurbaşkanınca atanır.
- B) Meclis üyeleri arasından Meclis Başkanınca atanır.
- C) Meclis Başkanının önerisi üzerine Cumhurbaşkanınca atanır.
- D) Millî Güvenlik Kurulunun önerisi üzerine Cumhurbaşkanınca atanır.
- E) Bakanlık yapmış kişiler arasından Cumhurbaşkanınca atanır.

57. 1982 Anayasasında 2010 yılında yapılan değişiklikler de göz önüne alındığında, Anayasa Mahkemesi ile ilgili aşağıdaki ifadelerden hangisi yanlıştır?

- A) Anayasa Mahkemesi onyedü üyeden kurulur.
- B) Anayasa Mahkemesine bireysel başvuru yapılabilir.
- C) Anayasa Mahkemesi üyeleri 12 yıl için seçilirler.
- D) Bir kimse en fazla iki defa Anayasa Mahkemesi üyeliğine seçilebilir.
- E) Siyasi partilerin kapatma davalarına Anayasa Mahkemesi bakar.

58. 1982 Anayasasına göre, aşağıdakilerden hangisinin yönetmelik çıkarma yetkisi yoktur?

- A) Başbakanlık
- B) Milli Eğitim Bakanlığı
- C) Yükseköğretim Kurulu
- D) Ankara Belediyesi
- E) İstanbul Valiliği

59. Üye ülkelerin devlet ve hükümet başkanlarının katıldığı zirve toplantısı 23 Aralık 2010 tarihinde İstanbul'da yapılan uluslararası kuruluş aşağıdakilerden hangisidir?

- A) Avrupa Konseyi
- B) İslam Konferansı örgütü
- C) Ekonomik İşbirliği Teşkilatı
- D) Avrupa Güvenlik ve İşbirliği Teşkilatı
- E) Karadeniz Ekonomik İşbirliği Teşkilatı

60. 2011 Dünya Üniversiteler Kış Oyunları aşağıdaki şehirlerimizden hangisinde yapılmaktadır?

- A) İstanbul
- B) Bolu
- C) Kayseri
- D) Erzurum
- E) Kars

**Sınav Bitti.
Cevaplarınızı kontrol ediniz.**

GENEL YETENEK

1. " Yalnız" sözcüğü; A ve B seçeneğinde "bir tek", C ve D seçeneğinde "tek başına" anlamında kullanılmıştır.

Cevap E

2. Bu cümledeki "zamansız yaşamak" sözü zamanı kulanırken belli bir program dahilinde değil de daha özgürce hareket etmek anlamında kullanılmıştır.

Cevap C

3. Bu parçadaki altı çizili sözde bulunan "kendi" kelimesi özgünlüğü ifade etmektedir.

Cevap E

4. Cümledeki "yedi tepeli şehir" sözüyle ifade edilen "İstanbul" dur. Kısa bir şekilde ifade edeceğimiz sözcükleri uzun uzadıya söylemeye "dolaylama" denir. Bu cümlede de dolaylama yapılmıştır. Seçeneklerde bulunan "derya kuzuları" sözüyle de anlatılmak istenen balıktır.

Cevap D

5. "patlamak" sözcüğü;

- I. cümlede; bağırarak
II. cümlede; kullanılmaz hale gelmek
III. cümlede; çiçek açmaya başlamak
IV. cümlede; mâl olmak
V. cümlede; bağırarak anlamlarında kullanılmıştır.

Cevap B

6. Bu cümledeki "ekmek" kelimesiyle anlatılan maddiyattır. Böylece ifade edilmek istenen sanatın parasal bir kazanç sağlamak için icra edilmemesidir.

Cevap A

7. Dolaylı anlatım birinden duyulan bir sözü kişinin, anlamda bir değişiklik yapmadan sadece söyleyişte yaptığı değişiklikle başkasına aktarmasıdır.

Cevap C

8. A seçeneğinde, alma eyleminin şu anda yapıldığı B seçeneğinde, tartışma eyleminin şu anda yapıldığı D seçeneğinde, kahve içme eyleminin şu anda yapıldığı E seçeneğinde, öğrenmeye çalışmanın şu anda yapıldığı anlamı vardır.

Cevap C

9. Yorum cümlelerinde kişisel görüş söz konusudur. A, B, C ve E seçeneklerinde kişisel düşünceler söz konusudur. D seçeneğindeyse kişisel değil; kanıtlanabilir yani herkesçe aynı olan bir düşünce söz konusudur.

Cevap D

10. A seçeneğinde, "ağaçlar da"
C seçeneğinde, "yirmisekiz"
D seçeneğinde, "3'er "
E seçeneğinde, "yanlızlığını" sözcüklerinin yazımı yanlıştır.

Cevap B

11. C seçeneğindeki " vejeteryan " sözcüğünün yazımı yanlıştır. Bu sözcüğün doğru yazımı "vejetaryen" şeklinde olmalıdır.

Cevap C

12. İlk paranteze ardına sıralama yapılacağından iki nokta (:) konmalıdır. İkinci ve üçüncü parantezler eş görevli sözcüklerin arasında bulunduğundan buralara virgül (,) konmalıdır. Dördüncü paranteze sıralamanın devamının gelme ihtimali olduğundan üç nokta (...) konmalıdır. Son paranteze ise tamamlanmış bir cümlenin sonunda bulunduğundan nokta (.) konmalıdır.

Cevap A

13. Son cümledeki "başarının daimi olması gerektiği" sözüyle A seçeneğine, paragrafta verilen örnek B ve C seçeneklerine, yine son cümlede bulunan "toplum olarak böyle durumlarda kalite aramalıyız" sözüyle de E seçeneğine ulaşılmaktadır. D seçeneğindeki "başarının kalıcılığının kolay bir iş olmadığına" sözüyle ilgili bir şeyden bahsedilmemiştir.

Cevap D

14. I, II, III, V ve VI. cümlelerde realizmin doğuşu ve dayandığı esaslar anlatılmaktadır. Ancak IV. cümlede realist sanatçılardan bahsedilmiştir.

Cevap C

15. Bu paragrafta bulunan II. cümledeki "Türkojoloji, öncelikle Batılı bilim adamlarının çalışmalarıyla sistemli bir hâle gelmiştir." cümlesindeki "öncelikle" sözcüğünden bunun sonrasında da bizde bu alanda çalışmaların başladığı anlamı çıkarılabilir. Böylece bu cümlenin ardına "Daha sonraları, Türkiye'de bu bilim dalına ilgi uyanmıştır." cümlesinin getirilmesi uygundur.

Cevap C

16. Eylemi derecelendiren sözcük azlık çokluk (miktar) zarfıdır. Eyleme sorulan " ne kadar " sorusuyla bulunur. A seçeneğinde, " en iyi filmler " ile sıfat derecelendirilmiştir. B, C ve D seçeneklerinde hiçbir kelime derecelendirilmemiştir. E seçeneğindeyse " çok üzülmüştü " derken "üzülme" eyleminin derecesi belirtilmiştir.

Cevap E

17. Varlığı belirten sözcükler belirtme sıfatlarıdır. Bunlar; işaret sıfatları, sayı sıfatları, belgisiz sıfatlar ve soru sıfatlarıdır.

I.cümlede "kara kaplı defter" derken varlık nitelenmiştir.

II.cümlede "kurulu düzen" derken varlık nitelenmiştir.

III.cümlede "karmaşık sorular" derken varlık nitelenmiştir.

IV.cümlede "üç kişi" derken varlık belirtilmiştir.

V.cümlede " şu odaya " derken varlık belirtilmiştir.

Cevap E

2011 - KPSS / GYGK - TG2

18. İlk cümlelerden A seçeneğine, "kedi, köpek, at, koyun, siğir, keçi gibi hayvanları evcilleştirdiler." cümlesinden B seçeneğine, "hayvanların sahiplerine bağlılıkları, insanlarda hayvan sevgisinin doğup büyümesine yardımcı oldu." cümlesinden C seçeneğine, son cümleden ise E seçeneğine ulaşılabilir. Ancak hayvanların bazı şeylerinden yararlandığına dair herhangi bir bilgi verilmemektedir.

Cevap D

19. I. ve II. cümlelerde turizmin ne olduğu ve turizmin çeşitlerinden bahsedilirken III. cümleden itibaren ülkemizdeki önemli turizm yerlerinden bahsedilmeye başlanmıştır.

Cevap C

20. Bu paragraf "tümevarım" yöntemiyle yazılmıştır. Yani ana düşünce paragrafın sonundadır. "dejenerasyon" sözcüğü bozulmuşluğu ifade eder. Bunun sebebi de sevgisizliğe bağlanmıştır. Bundan kaynaklı bu paragrafın temel düşüncesi " içinde bulunduğumuz zamanda hızla artan dejenerasyonun asıl kaynağı da toplumlarda yaşanan bu sevgi eksikliğidir." cümlesidir.

Cevap A

21. Bu paragrafta ilk cümlelerde insanların koşturmalarından bahsedilmektedir. Daha sonra " Hissizleşiyoruz toplum olarak." cümlesiyle insanların robotlaştığı yani mekanikleştiği ifade edilmeye çalışılmıştır. Böylece anlam bütünlüğün sağlanması için " Belki de bu, günlük koşturmaya mekanikleştiriyor insanı." cümlesinin II numaralı yere getirilmesi uygundur.

Cevap B

22. Bu paragraf "tümdengelim" yöntemiyle yazılmıştır. Yani anlatılmak istenen ana düşünce paragrafın başındadır. Sanatın toplumların desteğiyle ayakta kalabileceği, zamanın ve toplumun değişimine göre sanatta da ilerlemeler olduğu anlatılmak istenmiştir.

Cevap C

23. A seçeneğinde, özne - yüklem uyumsuzluğu B seçeneğinde, sözcüğün yanlış yerde kullanımı C seçeneğinde, gereksiz sözcük kullanımı D seçeneğinde, deyim yanlışlığı bulunmaktadır.

Cevap E

24. "Dün gece uyurken gördüğü rüyayı öyle büyük bir heyecanla anlattı ki bana." cümlesindeki anlatım bozukluğunun nedeni gereksiz sözcük kullanımıdır. Rüyaya sadece uyurken görüldüğünden "uyurken" sözcüğü gereksizdir.

A seçeneğinde, " yukarı"

B seçeneğinde, "ayağı"

C seçeneğinde, "şekilsiz" veya "biçimsiz"

D seçeneğinde, "bembeyaz" sözcükleri gereksizdir.

E seçeneğindeyse çelişen sözcüklerin bir arada kullanılmasından kaynaklanan anlatım bozukluğu vardır.

Cevap E

25. Bu cümlede bulunan anlatım bozukluğunun nedeni gereksiz sözcük kullanımıdır. Çünkü dayatmak zorla yapılan bir eylemdir. Bundan dolayı "zorla" sözcüğü gereksizdir.

Cevap A

26. A seçeneğinde "gelebiliyim" sözcüğü ihtimal bildirdiğinden "belki" sözcüğü; B seçeneğinde "arkadaşım"la "ile" edatı birliktelik anlamı olduğundan "birlikte" sözcüğü; D seçeneğindeki "arabada dışarı çıktı" sözünde "dışarı" sözcüğü; E seçeneğinde "inmek" sözcüğü cümleden çıktığında anlamlarda bir daralma meydana gelmez. Ancak C seçeneğinde "bizi" sözcüğünün çıkmasıyla "korkutma" eyleminin kimin üzerinde etkili olacağı belli olmayacağından anlam daralır.

Cevap C

27. Bu paragrafta, gerçek bir sanatseverde sevgi, bilgi birikimi, disiplin ve inanca olması, bunun yanında sanatçıya ve onun emeğine saygı duyması gerektiği esas olarak belirtilmiştir.

Cevap E

28. Bu paragrafta I,II, IV ve V. cümlelerde resmin insana bir şeyler hissettirdiğinden hatta aynı ögenin farklı resimlerde insanlara farklı duygular hissettireceğinden bahsedilmiştir. III. cümlede ise resme bakmanın önemini olmadığı önemli olanın resmi görmek yani ne anlatmaya çalıştığını anlamaya çalışmak olduğu anlatılmak istenmiştir. Bu yüzden paragrafın genel düşüncesinin dışına çıkmıştır.

Cevap C

29. Bu paragrafta Türkçenin yapısından, bünyesinde yabancı sözcükler bulunduğundan buna rağmen kendine özgü yapısının değişmediğinden, hangi dil ailesine mensup olduğundan bahsedilmiştir. Fakat Türkçedeki kelime köklerinden başka kelimeler türetildiğinden bahsedilmemiştir.

Cevap D

30. Bu parçada hareketlilik esastır. Kişi, yer, olay ve zaman olguları verilmiştir. Böylece öyküleme tekniğiyle yazılmıştır. Bunun yanı sıra "güneşli gün, yemyeşil yollar, temiz hava " gibi niteleyici sözcüklerle de tasvir yapılmıştır.

Cevap E

31. $2x - 4(y-z)=60$
 $2x - 4.4=60$
 $2x = 60 + 16$
 $2x = 76$
 $x = \frac{76}{2} = 38$

Cevap D

32. $(abc + ab).k$
 $(100a+10b+c+ 10a + b).k = (110a + 11b+c).k$

$$\frac{110ak + 11bk + k}{3,4 \quad 4 \quad 7} = 374 + 44 + 7$$

$$= 425$$

Cevap C

33. $\frac{7.6.5! - 6.5!}{5!} = \frac{5!(42-6)}{5!}$
 $= 36$

Cevap E

34. 36 ile bölünen sayı 4 ve 9'ada bölünebilmelidir.

4a2b sayısı 4 bölümlüden 3, 9'a bölümlüden 6 kalanı vermelidir.

$$\frac{15}{3} \mid \frac{4}{3} \quad \frac{15}{6} \mid \frac{9}{6}$$

4'e bölümlüden kalan 3'se b 3 yada 7 olabilir.

4a23 4a27

$$9 + a = 9k + 6 \quad 13 + a = 9k + 6$$

$$\downarrow \quad \quad \quad \downarrow$$

$$6 \quad \quad \quad 7 + a = 9k$$

$$\quad \quad \quad \downarrow$$

$$\quad \quad \quad 2$$

a'nın en büyük değeri 6 dir.

Cevap C

35. $\frac{a}{1} + \frac{5}{b} = 4 \Rightarrow \frac{ab+5}{b} = 4 \Rightarrow ab + 5 = 4b$ ①

$\frac{b}{1} + \frac{5}{a} = 2 \Rightarrow ab + 5 = 2a$ ②

① ve ② denklemler eşitlenirse $2a = 4b$
 $a = 2k$
 $b = k$ denir.

$$\frac{a - 4b}{a + b} = \frac{2k - 4.k}{2k + k} = -\frac{2k}{3k} = -\frac{2}{3}$$

Cevap E

36. $A = \frac{1}{2} - \frac{7}{5} + \frac{11}{3}$
 $X = \frac{3}{2} + \frac{2}{5} + \frac{1}{3}$
 $A + X = 2 - 1 + 4$
 $A + X = 5$
 $X = 5 - A$

Cevap D

37. $2y - 1$ sayısı tek olduğundan $36!$ içindeki tüm çiftler 2^{x+1} eşitlenir.

$$36 \begin{array}{r} \overline{)18} \\ \underline{18} \\ 0 \\ \overline{)9} \\ \underline{9} \\ 0 \\ \overline{)4} \\ \underline{4} \\ 0 \\ \overline{)2} \\ \underline{2} \\ 0 \\ \overline{)1} \\ \underline{1} \\ 0 \end{array}$$

$$18 + 9 + 4 + 2 + 1 = 34$$

$$2^{x-1} = 2^{34}$$

$$x = 35$$

Cevap C

38. Toplarsak

$$\left(1 + \frac{14}{13} - \frac{7}{17} - \frac{9}{29}\right) = \frac{14}{13} + \frac{10}{17} - \frac{9}{29}$$

$$-\frac{14}{13} - \frac{10}{17} + \frac{9}{29} = -\frac{14}{13} - \frac{10}{17} + \frac{9}{29}$$

$$-\left(\frac{14}{13} - \frac{10}{17} + \frac{9}{29}\right)$$

$$= -\frac{14}{13} - \frac{10}{17} + \frac{9}{29} = -1$$

Cevap E

39. $a < a^2 < |a|$ ifadesi

ancak $-1 < a < 0$ aralığında sağlanır.

Cevap D

40. $x - 1 > 4$ $(x-1) < -4$
 $x > 5$ $x < -3$

sağlamayan değerlerdir.

o zaman sağlayan değerler

$$-3 \leq x \leq 5 \text{ olur.}$$

$$x = -3, -2, -1, 0, 1, 2, 3, 4, 5$$

Cevap D

41. $\frac{x^3-1}{x^2-1} \cdot \frac{x^2+x+1}{x-1} = \frac{(x-1) \cdot (x^2+x+1)}{(x-1)(x+1)} \cdot \frac{(x-1)}{(x^2+x+1)}$
 $= \frac{x-1}{x+1}$

Cevap D

42. $2^5 < 54 < 2^6$ arasında ise $5 < a < 6$ olur.

$3^1 < 7 < 3^2$ arasında ise $1 < b < 2$

$5^3 < 211 < 5^4$ arasında ise $3 < c < 4$

$b < c < a$ olur.

Cevap B

GENEL YETENEK

$$43. \frac{\sqrt{\frac{1}{1} + \frac{9}{16}} + \sqrt{\frac{1}{1} + \frac{25}{144}}}{\sqrt{\frac{1}{1} + \frac{64}{225}}} = \frac{\sqrt{\frac{25}{16} + \frac{169}{144}}}{\sqrt{\frac{289}{225}}}$$

$$= \frac{\frac{5}{4} + \frac{13}{12}}{\frac{17}{15}}$$

$$= \frac{15 + 13}{12} \cdot \frac{15}{17}$$

$$= \frac{28.5}{4.17} = \frac{35}{17}$$

Cevap E

$$44. a = 2^{x-1}$$

$$b = 3^{1-x}$$

$$6^{x-1} = (2 \cdot 3)^{x-1} = 2^{x-1} \cdot 3^{x-1}$$

$$= 2^{x-1} \cdot 3^{-(1-x)} = \frac{2^{x-1}}{3^{1-x}} = \frac{a}{b}$$

Cevap D

$$45. \text{Üç kardeşe } x, y, z \text{ dersek}$$

$$\frac{x}{5} = \frac{y}{8} = \frac{z}{11} = k \Rightarrow x = 5k$$

$$y = 8k$$

$$z = 11k$$

$$11k - 5k = 6k = 42$$

$$k = 7$$

$$3 \text{ kardeşin yaşları toplamı}$$

$$5k + 8k + 11k = 24k$$

$$= 24 \cdot 7 = 168$$

Cevap D

$$46. \frac{27^x + 1}{9^x - 3^x + 1} = \frac{(3^x)^3 + 1^3}{9^x - 3^x + 1} = \frac{(3^x + 1) \left[(3^x)^2 - 3^x + 1 \right]}{9^x - 3^x + 1}$$

$$= \frac{(3^x + 1)(9^x - 3^x + 1)}{(9^x - 3^x + 1)}$$

$$3^x + 1 = 82$$

$$3^x = 81$$

$$3^x = 3^4$$

$$x = 4$$

Cevap D

$$47. \sqrt{\frac{25}{16} + \frac{16}{9} - \frac{10}{3}} = \sqrt{\left(\frac{5}{4}\right)^2 - 2 \cdot \frac{5}{4} \cdot \frac{4}{3} + \left(\frac{4}{3}\right)^2}$$

$$= \sqrt{\left(\frac{5}{4} - \frac{4}{3}\right)^2} = \left|\frac{5}{4} - \frac{4}{3}\right|$$

$$= \frac{1}{12}$$

Cevap A

$$48. \text{Ayşenin parasına OKEK (5,3,4) = } 60x \text{ desek}$$

$$60x \cdot \frac{2}{5} = 24x \text{ harcadı geriye } 36x \text{ kaldı.}$$

$$36x \cdot \frac{1}{3} = 12x \text{ harcadı geriye } 24x \text{ kaldı.}$$

$$24x \cdot \frac{1}{4} = 6x \text{ harcadı geriye } 18x \text{ kaldı.}$$

Cevap D

$$\frac{18x}{60x} = \frac{54}{A}$$

$$A = \frac{60x \cdot 54}{18x}$$

$$A = 180$$

Cevap E

$$49. \text{Baba oğul}$$

$$\text{Bugün } 3x \quad \frac{3x-3}{3} = x-1$$

$$2 \text{ yıl sonra } 3x+2 \quad x+1 \text{ olur}$$

$$3x+2+x+1=79$$

$$4x=76$$

$$x=19$$

$$\text{Baba} = 3x = 3 \cdot 19 = 57$$

Cevap B

$$50. \frac{1}{30} + \frac{1}{45} = \frac{1}{x} \Rightarrow \frac{5}{90} = \frac{1}{x}$$

$$(3) (2)$$

$$\frac{1}{18} = \frac{1}{x}$$

$$x = 18$$

Cevap C

2011 - KPSS / GYGK - TG2

$$51. \text{Toplam kişi sayısı } 10x \text{ olsun.}$$

$$\left. \begin{array}{l} 10x \cdot \frac{40}{100} = 4x \text{ Erkek} \\ 10x \cdot \frac{50}{100} = 5x \text{ Bayan} \\ 10x \cdot \frac{10}{100} = x \text{ Çocuk} \end{array} \right\} \begin{array}{l} 4x - x = 15 \\ 3x = 15 \\ x = 5 \end{array}$$

otobüste 10 x kişi varsa
10.5 = 50

Cevap D

$$52. 1. havuz tamamen dolmuş ikinci havuzun \frac{2}{3} \text{ dolmuştur.}$$

$$2v + 3v \cdot \frac{2}{3} = 4v \text{ lik kısım dolar.}$$

$$4v = 16 \text{ saat}$$

$$v = 4 \text{ saat}$$

$$2v + 3v + 2.5v = 7.5v \text{ lik su dolar.}$$

Buda 7.5 \cdot 4 = 30 saatte dolmuştur. ikinci havuzun \frac{2}{3} lük kısmı 16 saatte doluyorsa diğer kısmı 30 - 16 = 14 saatte doldurur.

Cevap C

$$53. \text{Tüm üretim}$$

$$200 + 250 + 450 + 250 + 200 + 450 = 1800$$

$$\frac{360^\circ}{x} = \frac{1800}{200}$$

$$x = \frac{360 \cdot 200}{1800} = 40^\circ$$

Cevap A

$$54. 2006 yılında x ton olsa$$

$$(1800 + x) \cdot \frac{22.5}{100} = 450$$

$$1800 + x = 2000$$

$$x = 200$$

Cevap A

$$55. \begin{array}{|c|} \hline 3 \text{ mavi} \\ 4 \text{ sarı} \\ \hline \text{I. torba} \\ \hline \end{array} \quad \begin{array}{|c|} \hline 2 \text{ mavi} \\ 4 \text{ sarı} \\ \hline \text{II. torba} \\ \hline \end{array}$$

$$\frac{3}{7} \cdot \frac{4}{6} + \frac{4}{7} \cdot \frac{2}{6} = \frac{2}{7} + \frac{4}{21} = \frac{10}{21}$$

Cevap D

GENEL YETENEK

2011 - KPSS / GYGK - TG2

56. Cuma 15.00'da ilk defa kurulan saat 26 defa kuruluyorsa aslında cuma 15.00'dan sonra 25 defa daha kurulacaktır.

11. $25 = 275$ saat

$$\begin{array}{r} 275 \quad | \quad 24 \\ \underline{24} \quad | \quad 11 \text{ gün} \\ 35 \\ \underline{24} \\ 11 \text{ saat} \end{array} \qquad \begin{array}{r} 11 \quad | \quad 7 \\ \underline{7} \quad | \quad 1 \\ 4 \end{array}$$

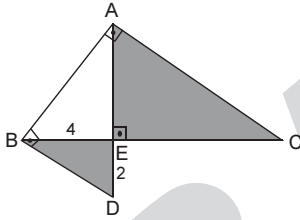
Cuma 15:00 C.tesi 15:00 Pazar 15:00
0 1 2

P.tesi 15:00 Salı 15:00
3 4

Salı 15:00'da gün doluyor ancak fazladan 11 saat daha geçerse 15:00 + 11:00 = 26:00 bu da çarşamba 02:00 olur.

Cevap E

57.



ABD üçgeninde ABC üçgeninde
 $|BE|^2 = |AE| \cdot |ED|$ $|AE|^2 = |BE| \cdot |EC|$
 $4^2 = |AE| \cdot 2$ $8^2 = 4 \cdot |EC|$
 $16 = |AE| \cdot 2$ $64 = 4 \cdot |EC|$
 $|AE| = 8 \text{ cm}$ $|EC| = 16 \text{ cm}$

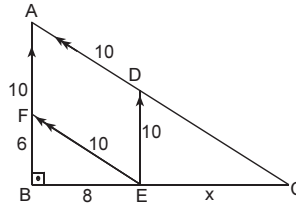
Taralı alanlar = $A(\widehat{BED}) + A(\widehat{AEC})$

$$= \frac{4 \cdot 2}{2} + \frac{16 \cdot 8}{2}$$

$$= 4 + 64 = 68 \text{ cm}^2$$

Cevap B

58.



$|AD|=|FE|=|ED|=|AF|=10 \text{ cm}$

\widehat{FBE} dik üçgen 6-8-10 üçgenidir.

$|BE|=8 \text{ cm}$ olur.

\widehat{ABC} üçgeninde

$$\frac{|EC|}{|CB|} = \frac{|BE|}{|AB|} \Rightarrow \frac{x}{x+8} = \frac{10}{16}$$

$16x = 10x + 80$

$6x = 80$

$x = \frac{80}{6} \Rightarrow x = \frac{40}{3} \text{ cm}$

Cevap E

60. $3x - 6y + 5 = 0$

$3x + 5 = 6y$

$y = \frac{1}{2}x + \frac{5}{6}$ eğimi $\frac{1}{2}$ olur.

iki doğrunun eğimleri çarpımı -1

$m_1 \cdot m_2 = -1$

$\frac{1}{2} \cdot m_2 = -1 \Rightarrow m_2 = -2$

eğimi ve bir noktası bilinen doğru denklem

$y - y_1 = m(x - x_1)$ dir.

(2, -3) noktasında geçen ve eğimi -2 olan doğru denklemi

$y - (-3) = (-2)(x - 2)$

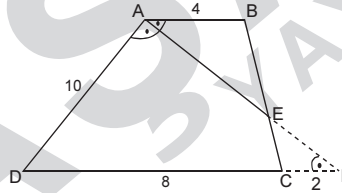
$y + 3 = -2x + 4$

$y + 2x - 1 = 0$ olur.

Cevap B

Başarı Yayıncılık

59.



(AE) uzatırsak ADF ikizkenar üçgeni olur.

$|AD| = |DF|$ $|CF| = 2 \text{ cm}$

$$\frac{|AB|}{|CF|} = \frac{|BE|}{|EC|} \Rightarrow \frac{4}{2} = \frac{|BE|}{|EC|}$$

$$\frac{|BE|}{|EC|} = 2$$

Cevap D

Başarı Yayıncılık

1. Türklerde iktidarın "ilahi" sayılması, Kağanın kendisini Tanrıya karşı sorumlu saymasına; iktidarın "Kanunî" sayılması ise Kağanın kendisini Türk töresine karşı sorumlu sayması ve icraatlarının millet tarafından kontrol edilebilmesine neden olmuştur. Türklerde Kağan belli bir süreliğine değil, ömür boyu tahtta kalırdı.

Cevap: D

2. Orta Asya'nın kuzeyinde Sibirya'nın olması, güneyinde ise başta Himalayalar olmak üzere yüksek ve engebeli bir arazinin olması Türkleri doğu ve batı yönünde sınırlarını genişletmeye zorlamıştır. Bu durumda doğuda ve batıda egemenlik mücadelesi yaşanan güçlü devletlerin (Çin, Bizans, Sasani gibi) olması da etkili olmuştur.

Cevap: D

3. IX. yüzyılda yaşamış ünlü astronomi, coğrafya ve matematik bilgini Harezmi'dir. İbn-i Sina 11. yüzyılda yaşamış bir tıp bilginidir. Ali Kuşçu 15. yüzyılda yaşamış ve Osmanlı medreselerinde müderrislik yapmış bir matematik bilginidir. Uluğ Bey 15. yüzyılda yaşamış Timur Devleti'nin 4. sultanı ve ünlü bir gökbilimcidir. Farabi 16. yüzyılda yaşamış ve pozitif bilim alanlarında eserler vermiş bir Türk bilginidir.

Cevap: B

4. Konya İnce Minareli Medrese, Kayseri Döner Kumbet, Sivas Gök Medrese, Niğde Alaaddin Cami Türkiye Selçuklular Dönemi'ne aittir. Mardin Ulu Cami ise Artuklular Dönemi'ne aittir.

Cevap: A

5. Kazaskerin kadırları ataması ve önemli davaları sonuçlandırması hukuk alanında; medrese hocaları olan müderrisleri ataması ise eğitim alanında görev ve yetkileri olduğunu gösterir. Kazaskerin askerlik alanında herhangi bir görev ve yetkisi yoktur.

Cevap: C

6. Fetva, padişah buyruğu olmayıp, şeyhülislam veya müftüler tarafından kural ve uygulamaların dine uygun olup olmadığına dair verilen karardır.

Cevap: E

7. XVIII. yüzyıl, Osmanlı Devleti'nde batının üstünlüğünün kabul edildiği ve bu doğrultuda batı tarzı yenilik hareketinin başladığı yüzyıldır. Bu yüzyılda yapılan yenilikler daha çok orduyu güçlendirmeye yönelik olduğundan, bir taraftan ordu modernize edilirken, bir taraftan da pozitif bilimlerin okutulduğu batı tarzı yeni okullar (Mühendishane) açılmıştır. Padişahın hukuki yetkilerinin kısıtlanması 19. yüzyılda olacaktır.

Cevap: D

8. Osmanlı Devleti'nde siyasi örgütlenmelerin önündeki engeller Kanun-i Esasi'de 1909 yılında yapı yapılan anayasa değişikliğiyle kaldırılmıştır. Bu tarihten sonra partiler kurularak çok partili hayata geçilmiştir.

Cevap: C

9. Osmanlı Devleti'nde padişahın yetkileri Sened-i İttifak, Tanzimat Fermanı, Islahat Fermanı ve Kanun-i Esasi ile aşamalı olarak azaltılmıştır. Kanun-i Esasi'de 1909'da yapılan köklü değişikliklerle padişahın yasama, yürütme ve yargı yetkilerine büyük ölçüde son verilmiş; yetkiler parlamentoya devredilmiştir.

Cevap: E

10. Mondros Ateşkes Antlaşması'nın ardından Anadolu'nun işgal edilmeye başlaması ve bu duruma İstanbul Hükümeti'nin tepkisiz kalması üzerine ilk olarak Anadolu'nun çeşitli yerlerinde Müdafaa-i Hukuk Cemiyetleri kurulmaya başlanmıştır. Bu cemiyetler kuruldukları bölgelerdeki halkı örgütleyerek Kuva-i Milliye Birlikleri oluşturmuşlardır.

Cevap: A

11. Erzurum Kongresi'nde bölgesel olarak kurulan, Sivas Kongresi'nde milli bir özellik kazanan Temsil Heyeti millet adına yürütme yetkisini kullanmış ve TBMM'nin açılmasına kadar Milli Mücadelenin yürütme organı olmuştur. Son Osmanlı Mebusan Meclisi ile TBMM ise millet tarafından seçilmiş üyelerden oluşmuş; her türlü etki ve denetimin dışında milli kararlar alarak milletin kaderi üzerinde etkili olmuştur.

Cevap: E

12. Son Osmanlı Mebusan Meclisi milletvekilleri Misak-ı Milli Kararları'nı alarak ülkenin işgallerden kurtarılması konusunda kesin bir tavır almışlardır. I. TBMM milletvekilleri de Misak-ı Milli Kararları'nı savunmuşlar ve bu kararların hayata geçirilmesi için yoğun bir mücadele vermişlerdir. Son Osmanlı Mebusan Meclisi'nin göndeminde ulusal egemenliğin güçlendirilmesi ile ilgili bir hedef olmayıp, bu hedefe I. TBMM ulaşmaya çalışmıştır.

Cevap: D

13. 23 Nisan 1920'de açılan I.TBMM ilk iş olarak düzenli bir ordu kurmuş ve bu orduyla kazandığı ilk zafer de I. İnönü Savaşı olmuştur. I. İnönü Savaşı'ndan sonra TBMM ile Sovyet Rusya arasında imzalanan Moskova Antlaşması (16 Mart 1921) ile Sovyet Rusya Misak-ı Milli-yi tanımıştır.

Cevap: B

14. Yeni Türk Devleti'nin dış siyasetinin belirlenmesinde hem Erzurum ve Sivas Kongresi kararları hem de Misak-ı Milli Kararları etkili olmuştur. Tekalif-i Milliye Emirleri ise Mustafa Kemal tarafından Kütahya - Eskişehir Savaşı'ndan sonra yayımlanmış; bu emirlerle Türk ordusunun ihtiyaçları karşılanmaya çalışılmıştır.

Cevap: D

15. I. TBMM'nin Milli Mücadele devam ederken Sovyet Rusya ile ilişkilerini güçlendirmesinde, Doğu sınırını güvence altına almak, Sovyet Rusya'nın askeri ve siyasi desteğini almak öncelikli olarak etkili olmuştur. Boğazlar üzerinde egemenlik kurmak Milli Mücadele'nin bitiminden itibaren tüm meclislerin hedefi haline gelmiş; nihayet bu hedefe 1936 yılında yapılan Montrö Boğazlar Sözleşmesi ile ulaşılmıştır. TBMM'nin bu hedefine Sovyet Rusya destek vermemiş, tam tersine karşı çıkmıştır.

Cevap: A

16. TBMM'nin I. İnönü Savaşı'nı kazanıp ardından da Sovyet Rusya ile Moskova Antlaşması'nı yaparak askeri ve siyasi yönden güçlendiğini gören Fransa, Anadolu'ya yönelik politikalarını değiştirmek zorunda kalmıştır. TBMM, Sevr Antlaşması'nı tanımadığını en başta ilan etmiş; fakat bu tanınamayı İtilaf Devletleri, TBMM'yi küçümsedikleri için dikkate almamışlardır.

Cevap: C

17. Rus Çarlığı'nın yıkılması sonucu, Kafkaslarda kurulan devletlerden biri de Gürcistan idi Gürcistan ile TBMM Hükümeti arasında Batum yüzünden bir anlaşmazlık çıkmıştı. Gürcistan, Temmuz 1920'de Batum'u işgal etmişti. Bu işgal, Osmanlı İmparatorluğu'nun Sovyet Rusya ile imzalamış olduğu Brest - Litovsk (Brest Litovsk) Antlaşması'na aykırı idi. Çünkü bu antlaşmaya göre Batum, Ardahan ve Kars, Osmanlı İmparatorluğu'na geri verilmişti.

Cevap: A

18. Mustafa Kemal Batı Cephesi Komutanı İsmet İnönü'ye çektiği Telgrafta "... siz orada yalnız düşmanı değil, milletin kötü giden talihini de yendiniz." diyerek II. İnönü Savaşı'ndaki başarıyı kutlamıştır.

Cevap: B

19. İzmir İktisat Kongresi'nin toplanması: 18 Şubat 1923
İkinci TBMM'nin açılması : 11 Ağustos 1923
Ankara'nın başkent ilan edilmesi : 13 Ekim 1923

Cevap: D

20. II. TBMM, 1923 - 1927 yılları arasında faaliyette bulunmuştur.

Takrir-i Sükun Kanu'nu çıkarılması : 4 Mart 1925
Halifeliğin kaldırılması 3 Mart 1924
Kadınlara siyasi haklar verilmesi 1930 -1934
Lozan Antlaşması'nın onaylanması:23 Ağustos 1923

Cevap: C

21. 1946'da çift dereceli seçim sisteminden, tek dereceli seçim sistemine geçilerek, halkın milletvekillerini doğrudan seçebilmeleri sağlanmıştır. Meclis Hükümeti sisteminden kabine sistemine ise 1923'te Cumhuriyetin ilanı ile geçilmiştir.

Cevap: D

Başarı Yayıncılık

Başarı Yayıncılık

GENEL KÜLTÜR

2011 - KPSS / GYGK - TG2

22. I. Beş Yıllık Kalkınma Planı öncelikli olarak devlet yatırım ve işletmeciliğine önem verileceğini gösterir. Devletçilik ilkesinin bir gereği olarak hazırlanan bu planla devlet ekonominin her alanına yatırımlar yapmaya ve bu yatırımları işletmeye başlamıştır.
Cevap: C
23. Türk Lirası ve döviz cinsinden para stoku oluşturarak piyasalardaki spekülasyon dalgalarını önlemek ve bu yolla Türk Lirasının değerini korumak için 1930 yılında Merkez Bankası kurulmuştur.
Cevap: D
24. Atatürk'ün "I. öncüldeki sözü" inkılapçılık, "II. öncüldeki sözü" devletçilik, "III. öncüldeki sözü" ise cumhuriyetçilik ilkeleriyle doğrudan ilgilidir.
Cevap: B
25. Halkçılık, sosyal dayanışmayı, tüm fertlerin kanun önünde eşitliğini ve halkın yönetime katılımını savunur.
Cevap: E
26. Din eğitiminin devlet tarafından düzenlenmesi, ibadet yerlerinin devlet kontrolünde açılması ve vicdan özgürlüğünün sağlanması Atatürk laikliğinin özellikleri arasındadır.
Cevap: E
27. Osmanlı Devleti'nin son döneminde ortaya çıkan, ideoloğunu Ziya Gökalp'in yaptığı ve İttihat Terakki Partisi tarafından uygulanmaya çalışılan Türk milliyetçiliği Türk kültürünü araştırma ve geliştirme, batı normlarında bir idare oluşturma hedefleriyle Atatürk Milliyetçiliğiyle örtüşür. Fakat Atatürk milliyetçiliği, dünya Türklerini tek çatı altında birleştirme (Turancılık) hedefine sahip değildir.
Cevap: B
28. Yunanistan'ın Batı Rumeli Türklerinin mallarına el koyarak buralara Türkiye'den gelen Rumları yerleştirmeye başlaması 1929 yılında Türkiye'yi Yunanistan ile yeni bir savaşın eşiğine getirmiştir.
Cevap: A
29. Türkiye Balkan Antantı'nı Yunanistan, Yugoslavya ve Romanya ile yaparak Yunanistan sınırını; Sadabat Paketi'nin İran, Irak, Afganistan ile yaparak Irak sınırını güvence altına almıştır. Bu paktlarda Bulgaristan ve Suriye yoktur.
Cevap: A
30. II. Dünya Savaşı 1939 yılında başlamış; Halkevleri ise 1932 yılında kurulmuştur.
Cevap: E
31. Gündüz süresinin en uzun olduğu tarihin 21 Haziran olması, en uzun gecenin yaşandığı 21 Aralık tarihinden sonra gündüzlerin uzamaya başlaması, Türkiye'nin Kuzey Yarım Küre'de bulunduğunu kanıtlar. 23 Eylül'de gece - gündüz eşitliğinin yaşanması tüm Dünya'da yaşanan bir durumdur. Türkiye'nin Kuzey Yarım Küre'de bulunduğunu kanıtlamaz.
Cevap: D
32. İndirgenmiş sıcaklık haritalarında, sıcaklığın dağılımında yükselti etkisi yoktur. Sıcaklıklar deniz seviyesine indirgenerek yükselti etkisi ortadan kaldırılmıştır.
Cevap: A
33. I. Jeolojik zamandan kalma arazilere masif denir. Anadolu'nun bazı yerlerinde masif arazilerin bulunması genç bir arazi olduğunu göstermez.
Cevap: C
34. Kıyı Ege Bölümü'nde yer alan Menteşe Yöresi'nde insan yaşamına uygun olan Akdeniz iklimi görüldüğü halde, yer şekillerinin engebeli olmasından dolayı nüfus yoğunluğu düşüktür.
Cevap: E
35. Alt yapı sorunlarının ortaya çıkması iç göçlerin sebepleri arasında yer almaz. İç göçler sonucu ortaya çıkan sorunlar arasında yer alır.
Cevap: B
36. Köy altı yerleşmelerinin ortaya çıkmasında;
II. hayvanlar için otlak temini,
III. ailelerin bağımsız yaşama arzusu etkili olmuştur.
Cevap: C
37. Buğday ilkbahar yağışlarıyla yeşeren, sıcak ve kurak yaz mevsiminde olgunlaşan bir tahıldır. İlkbahar yağışlarındaki azalma, buğday verimini azaltır.
Cevap: D
38. Tarımda verimi artırmak, modern yöntemler kullanarak aynı alandan daha fazla ürün almakla mümkündür. Ekim alanlarının genişletilmesi üretim miktarını artırır ancak birim alandan elde edilen verimi değiştirmez.
Cevap: A
39. Akdeniz ve Ege'de geniş, Doğu Karadeniz'de dar alanda taranarak " " gösterilen ürün **turuncgiller**.
Kuzey kıyıları boyunca taranarak " " gösterilen ürün **ındıktır**.
Cevap: E
40. Kümes hayvancılığı kapalı alanlarda yapıldığı için doğal koşullara bağımlılık yoktur. Bir yerde gelişmesinde ulaşım ve pazarlama koşullarının uygunluğu etkili olmaktadır.
Cevap: C
41. I. Denizli - Sarayköy → Jeotermal
II. Zonguldak - Çatalağzı → Taş kömürü
III. Ankara - Çayırhan → Linyit
IV. Elazığ - Keban → Hidroelektrik (su gücü)
Jeotermal kaynaklardan ve su gücünden elektrik üretiminde çevreye verilen zarar fosil yakıtlara göre daha azdır.
Cevap: D
42. Türkiye'de dağların uzanışına bağlı olarak kuzey - güney yönünde yol yapımı maliyeti yüksektir. Kayseri ile Bursa arasındaki alanlar büyük oranda ova ve platolardan oluştuğu için yapılacak demir yolunun km maliyeti daha düşük olacaktır.
Cevap: B
43. En az yağış alan, tarım alanları ve plato arazileri en fazla olan coğrafi bölge **Anadolu'dur**.
Cevap: E
44. Turizmin geliştiği bölgelerde iş imkanlarının artmasına bağlı olarak, bölge dışında göçler azalır, bölge diğer bölgelerden göç almaya başlar.
Cevap: A
45. Karadeniz Bölgesi'nde balıkçılık yaygın bir ekonomik faaliyet olmasına karşın geleneksel yöntem olarak bilinen kıyı balıkçılığı yapılmaktadır. Modern balık avlama yöntemi olan açık deniz balıkçılığı gelişmediği için ekonomik gelirler içersindeki payı azdır.
Cevap: C
46. İzmir - Aliağa petrol rafinerisinin kurulmasında ulaşım ve dağıtım koşulları etkili olmuşken, verilen diğer endüstri kollarının gelişmesinde ham maddeye yakınlık etkili olmuştur.
Cevap: D

GENEL KÜLTÜR

47. Tabloya göre Türkiye'nin insanı gelişmiş endeksi Çin'den daha yüksektir. Buna göre okullaşma oranının Türkiye'de, Çin'den daha yüksek olması gerekir.

Cevap: C

48. Yıldız Dağları Bölümü'nde yağış miktarı fazladır ve bölüm ana yolların uzağında kalır. Tarım alanları az olan ve nemli iklim koşulları görülen Yıldız Dağları Bölümü'nde tahıl tarımı yaygın değildir ve tarımsal nüfus yoğunluğu yüksektir.

Cevap: B

49. Türk Medeni Kanununa göre çocuk ile ana arasındaki soybağı doğum ile kurulur. Çocuk ile baba arasında soybağı ise; ana ile evlilik, tanıma veya hakim hükmüyle kurulur.

Cevap: A

50. Yürürlükteki yazılı hukuk kurallarına mevzuat, yazılı olmayan hukuk kurallarına ise örf adet hukuku denir. Yürürlükte olan gerek yazılı gerek yazılı olmayan hukuk kurallarının tümü ise pozitif hukuk olarak adlandırılır. Başka deyişle pozitif hukuk, yürürlükte bulunan yazılı hukuk kuralları ile yazılı olmayan hukuk kurallarının toplamından oluşur.

Cevap: B

51. Medeni Kanun'da kısıtlama nedenleri olarak akıl hastalığı, akıl zayıflığı, savurganlık, alkol veya uyuşturucu madde bağımlılığı, kötü yaşama tarzı, kötü yönetim, bir yıl veya daha uzun süreli özgürlüğü bağlayıcı bir cezaya mahkum olmak sayılmaktadır. Ayrıca yaşlılığı, sakatlığı, deneyimsizliği veya ağır hastalığı sebebiyle işlerini gerektiği gibi yönetemediğini ispat eden kimseler de kısıtlanmalarını isteyebilir. Kısıtlama kararını mahkeme verir. Kısıtlanan kişi vesalet altına alınır yani kendisine bir vasi atanır. Okuma yazma bilmemek kısıtlanma sebebi değildir.

Cevap: C

52. 1921 Anayasası, Türk Anayasa tarihindeki ilk ve tek esnek anayasadır. Bu Anayasa ayrıca, sadece temel ilkeleri koymakla yetinen ve ayrıntıları kanunlara bırakan çerçeve anayasa niteliğindedir. Egemenliğin kayıtsız şartsız millete ait olduğunu belirten Milli Egemenlik ilkesi ilk kez 1921 Anayasasında yer almıştır. 1921 Anayasasında Meclis hükümeti sistemi benimsenmiştir. Yasama ve yürütme kuvvetleri Mecliste toplanmıştır. Böylece kuvvetler birliği sistemi kabul edilmiş olmaktadır.

Cevap: B

53. Demokrasinin çeşitli uygulamaları bulunmaktadır. Demokrasilerde en önemli şart, etkin siyasi makamlardaki yöneticilerin, düzenli aralıklarla yapılan serbest seçimlerle iş başına gelmeleridir. Başkanlık sistemi, yarı başkanlık sistemi ve parlamenter sistem değişik demokrasi uygulamalarına örnek olarak gösterilebilir. Amerika Birleşik Devletlerinde başkanlık sistemi, Fransa'da yarı başkanlık sistemi, ülkemizde ise parlamenter sistem uygulanmaktadır. Her üç ülke de demokrasiye yönetilmektedir. Anayasanın değiştirilemez maddeleri arasında parlamenter sistem bulunmamaktadır.

Cevap: D

54. Yasama organının işlemleri kendi içinde kanunlar ve kararlar olmak üzere ikiye ayrılır. Kanunlar Resmi Gazetede "Kanun", kararlar ise "TBMM Kararı" başlığıyla yayımlanırlar. Anayasa değişiklikleri, Bakanlar Kuruluna kanun hükmünde kararname çıkarma yetkisi verme işlemi, genel ve özel af ilanı, milletlerarası antlaşmanın uygun bulunması işlemi kanunla yapılır. Keza, Meclis tarafından çıkarılan soyut, genel ve sürekli düzenleyici işlemler kanun biçiminde kabul edilir. Kanun dışındaki bütün yasama işlemleri karar biçiminde olur. Örneğin Meclis İçtüzüğü, Meclis Başkanının seçimi, milletvekili dokunulmazlığının kaldırılması, Başbakanın veya bir bakanın Yüce Divan'a sevkî, Bakanlar Kuruluna güvenoyu verilmesi veya güven isteminin reddi, savaş ilanı v.b işlemler Meclis kararı biçiminde işlemlerdir.

Cevap: B

55. Türkiye Büyük Millet Meclisinin oluşumu, yetkileri ve çalışmalarına ilişkin kurallar Anayasa'da ve TBMM İçtüzüğünde yer almaktadır.

Cevap: A

56. Başbakan, Meclis üyeleri arasından Cumhurbaşkanınca atanır. Bir kimsenin başbakan olarak atanması konusunda Anayasada bulunan tek şart o kimsenin meclis üyesi yani milletvekili olmasıdır. Parti başkanı olmayan, hatta herhangi bir partiye üye olmayan bir milletvekili de başbakan olarak atanabilir. Cumhurbaşkanının başbakanı atama yetkisi bulunmasına karşılık görevden alma yetkisi yoktur.

Cevap: A

57. Anayasa Mahkemesi onyediy üyeden kurulur. Üyeler on iki yıl için bu göreve seçilirler. Bir kimse iki defa Anayasa Mahkemesi üyesi seçilemez. Üyeler altmışbeş yaşını doldurunca emekliye ayrılırlar. Anayasa Mahkemesi Anayasa değişikliği, TBMM İçtüzüğü, kanun ve kanun hükmünde kararnamelerin Anayasaya uygunluğunu denetler. Parti kapatma davalarına bakmak ve Yüce Divan sıfatıyla belirli kişileri yargıla-

2011 - KPSS / GYGK - TG2

mak da Anayasa Mahkemesinin görevleri arasında-
dır. Anayasa Mahkemesi ayrıca Avrupa İnsan Hakları Sözleşmesi kapsamındaki haklardan birinin kamu gücü tarafından ihlali nedeniyle yapılan bireysel başvuruları da karara bağlar.

Cevap: D

58. 1982 Anayasasına göre Başbakanlık, bakanlıklar ve kamu tüzelkişileri, kendi görev alanlarını ilgilendiren kanunların ve tüzüklerin uygulanmasını sağlamak üzere ve bunlara aykırı olmamak şartıyla, yetmelikler çıkarabilirler. Anayasada belirtilmemesine rağmen Bakanlar Kurulu da yönetmelik çıkarma yetkisine sahiptir. Yükseköğretim Kurulu ve Belediyeler kamu tüzelkişiliğine sahip kuruluşlardır; dolayısıyla bunlar da kendi görev alanlarıyla ilgili yönetmelik çıkarabilirler. Valiliklerin kamu tüzelkişiliği yoktur. Bu nedenle valilikler yönetmelik çıkaramazlar.

Cevap: E

59. Ekonomik İşbirliği Teşkilatı (EİT) zirve toplantısı 23 Aralık 2010 tarihinde ülkemizde yapılmıştır. Ekonomik İşbirliği Teşkilatı üyesi ülkeler Türkiye, İran, Pakistan, Azerbaycan, Kazakistan, Kırgızistan ve Özbekistan'dır. Teşkilatın dönem başkanlığı görevini halen Türkiye yürütmektedir.

Cevap: C

60. 1949 yılında kurulmuş olan, spor ve üniversite ruhunu bir araya getirmeyi amaçlayan Uluslararası Üniversite Sporları Federasyonu'nun düzenlediği 2011 Dünya Üniversiteler Kış Oyunları Erzurum şehrimizde yapılmaktadır.

Cevap: D